

onym kod	LMA515 Matematik del B 170410	Sidnr 1	Poäng
----------	-------------------------------	------------	-------

Till nedanstående uppgifter skall korta lösningar redovisas, samt svar anges, på anvisad plats (endast lösningar och svar på detta blad, och på anvisad plats, beaktas).

- (a) Bestäm $a > 0$ så att arean under grafen $f(x) = x^2 + 5$ mellan $x = 0$ och $x = a$ är hälften så stor som arean mellan $x = a$ och $x = 2a$. (4p)

Lösning:

$$\frac{a^3}{3} + 5a = \frac{1}{2} \left(\frac{(2a)^3}{3} + 5 \cdot 2a - \frac{a^3}{3} - 5a \right)$$

$$0 = \frac{5a^3}{3} - 5a$$

$$a = \sqrt{3}$$

Svar:

- (b) Bestäm inflexionspunkter till funktionen $f(x) = x^2 + \sqrt{x}$. Ange intervall där funktionen är uppåt resp nedåt konkav. (dvs konvex/konkav) (3p)

Lösning:

$$2x + \frac{1}{2}x^{-\frac{1}{2}} \quad 2 - \frac{1}{4}x^{-3/2} \quad x = \frac{1}{4}$$

Svar: $CO: 0 \leq x \leq \frac{1}{4}$ $CU: x \geq \frac{1}{4}$

- (c) Ange den primitiva funktion till $f(x) = \frac{1}{x^3} - \frac{1}{x^2}$ som uppfyller $F(1) = 2$. (3p)

Lösning:

$$Svar: \quad x^{-2}/(-2) - x^{-1}/(-1) + C \quad C = 3/2$$

Var god vänd!

(d) Beräkna $\int_0^{\pi/2} \sin^2(x) \cos(x) dx$.

(3p)

Lösning:

Svar: $\frac{1}{3}$

(e) Lös differentialekvationen $y'' + 25y = 5 + \cos(4x)$.

(3p)

Lösning:

$$\begin{aligned} A \cos 4x + B \sin 4x &= y_p \\ -16A \cos 4x - 16B \sin 4x &= y_p'' \\ 9A \cos 4x + 9B \sin 4x &= \end{aligned}$$

Svar: $\dots C_1 \cos 5x + C_2 \sin 5x + \frac{1}{5} + \frac{1}{9} \cos 4x \dots$

2

$$\frac{2x(x+2) - x^2}{(x+2)^2} = \frac{x^2 + 4x}{(x+2)^2}$$

$$\frac{x^2 + 4x}{(x+2)^2}$$

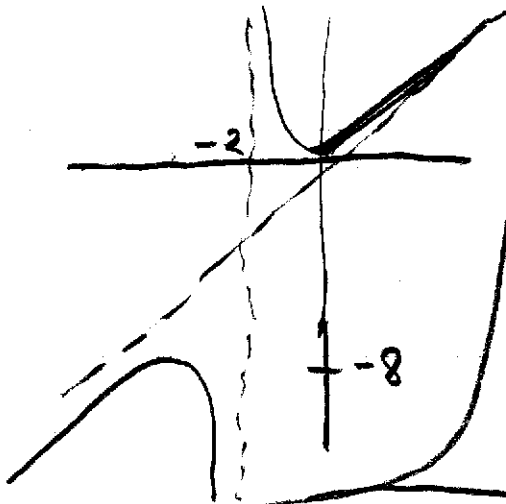
$$x \neq -2$$

$$\rightarrow \pm 4, x \rightarrow \frac{1}{2}$$

$$\begin{array}{r} -4 \quad -2 \quad 0 \\ \hline + \quad 0 \quad - \quad -0 \quad + \\ \rightarrow -8 \quad \searrow \quad \swarrow 0 \end{array}$$

$$\begin{array}{r} x-2 \\ \hline x^2 \quad | \quad x+2 \\ \hline -(x^2+2x) \\ \hline -2x \\ \hline -(-2x-4) \\ \hline 4 \end{array}$$

$$y = x - 2$$



3

$$\int \frac{1/2}{x} - \frac{1/2}{x+2}$$

$$\left[\frac{1}{2} \ln \frac{x}{x+2} \right]_0^{\infty} = -\frac{1}{2} \ln \frac{1}{3} = \frac{1}{2} \ln 3$$


4

$$\frac{e^{-3x}}{-3} + e^{-2x} + C$$


$$-1/3 + 1 + C = 2$$

$$1 - 2e^x = 0$$

$$x = -\ln 2$$



5



$$x: \int \pi y^2 dx =$$

$$\pi \left[x - \frac{x^2}{2} \right]_0^1 = \frac{\pi}{2}$$

$$y: \int \pi x^2 dy = \pi \int (1-y)^2 dy$$

$$= \pi \left(1 - \frac{2}{3} + \frac{1}{5} \right) = \frac{8\pi}{15}$$

6

$$f' - 2xf = xe^{x^2}$$

$$(e^{x^2} f)' = x$$

$$f = e^{x^2} (x + C)$$

$$e = e(1+C) \quad C=0$$

7

$$i) \int \frac{t^2 - 1}{1+t^2} = \int \left(1 - \frac{2}{1+t^2} \right) dt$$

$$ii) \int \frac{x^2}{(x^3+1)^4} = \frac{-1}{9} (x^3+1)^{-3}$$

8



$$A = 2\pi B^2 + 2\pi BL$$

$$V = \frac{\pi B^2}{2} L$$

$$L = \frac{A - 2\pi B^2}{2\pi B} \Rightarrow V = V(B)$$

$$V'(B) = \dots$$

9

$$F'(t) = kF(t)(M - F(t))$$

$$F(0) = 1$$

$$\frac{dy}{y(M-y)} = k dt$$