

F21 21/5 - 18

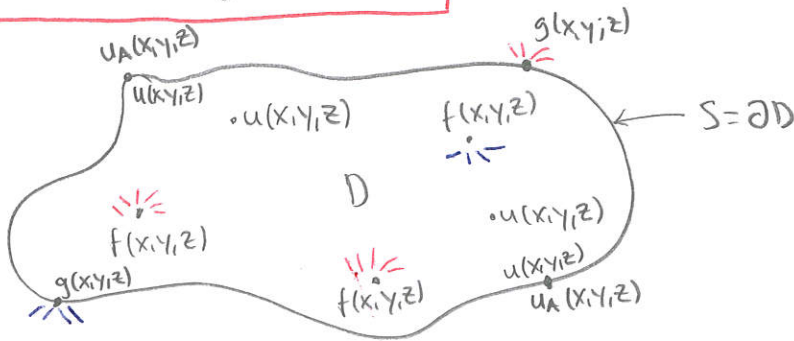
①

Repetition: värmeledningsrektionenGrundproblem:  $(\mathbb{R}^3)$ 

$$-\nabla \cdot (a \nabla u) = f \quad \text{i } D$$

$$a \nabla_n u + k(u - u_A) = g \quad \text{på } S$$

$$\begin{pmatrix} \text{i } D: \\ -\nabla(a \nabla u) = f \\ \dots \end{pmatrix}$$



(2d-skiss)

Parametrer hela området (D)

u - temperatur [K]

f - källtäthet för nre värmekällor [ $\text{J}/\text{m}^3\text{s}$ ]a - värmeledningskoefficient [ $\text{J}/\text{m Ks}$ ] (hur lätt leds värme)Parametrer för randen (S) $u_A$  - omgivande temperatur [K]k - värmeöverföringskoefficient för det isolerade ytskiktet [ $\text{J}/\text{m}^2\text{sK}$ ]
$$\begin{cases} k=0 & \text{perfekt isolerad} \\ k=\infty & \text{helt oisolerad} \end{cases}$$
g - flödestäthet för värmekällor på ytan [ $\text{J}/\text{m}^2\text{s}$ ]

Alla parametrer kan bero på x, y och z.

Viktig:-  $a \nabla u$  - värme flödestätheten [ $\text{J}/\text{m}^2\text{s}$ ] (Fouriers lag)

- Ju högre temperaturskillnad (gradient), ju högre värme flöde
- Ju högre värmeledningskoefficient, ju högre värme flöde
- Värme går från varmt till kallt

Riktningar?

\*  $u, f, a, u_A$  och  $k$  har ingen riktning:

- $u$  och  $u_A$  är ju temperatur
- $f > 0$  det värms på
- $f < 0$  det kyls ner
- $a, k$  är hur lätt/svårt värme flödar (leds)

\*  $g$  har ingen riktning heller, men:

- $g > 0$  ronden värms på utifrån
- $g < 0$  ronden kyls av utifrån

\*  $-a \nabla u$  är ett vektorfält (d.v.s. har riktning)

$D_{\vec{w}} \cdot (-a \nabla u)$  ger hur mycket värme som flödar i riktningen  $\vec{w}$ .

När du har  $u$  räknar du ut värmeflödestätheten genom

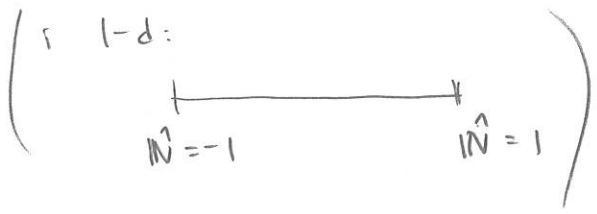
$-a \nabla u$  ( $-a \nabla u$  i 1-d)

Flödet genom ronden ges av

$\hat{N} \cdot (-a \nabla u)$

om

- $\hat{N} \cdot (-a \nabla u) > 0 \Rightarrow$  det flödar utåt
- $\hat{N} \cdot (-a \nabla u) < 0 \Rightarrow$  det flödar inåt



PDE Toolbox

(3.)

Vär form:

$$\begin{aligned}
 -\nabla \cdot (a \nabla u) + cu &= f & i & D \\
 a \nabla_n u + k(u - u_A) &= g & p & S
 \end{aligned}$$

$k \rightarrow \infty$  ger  $u = u_A$  (Dirichlet)

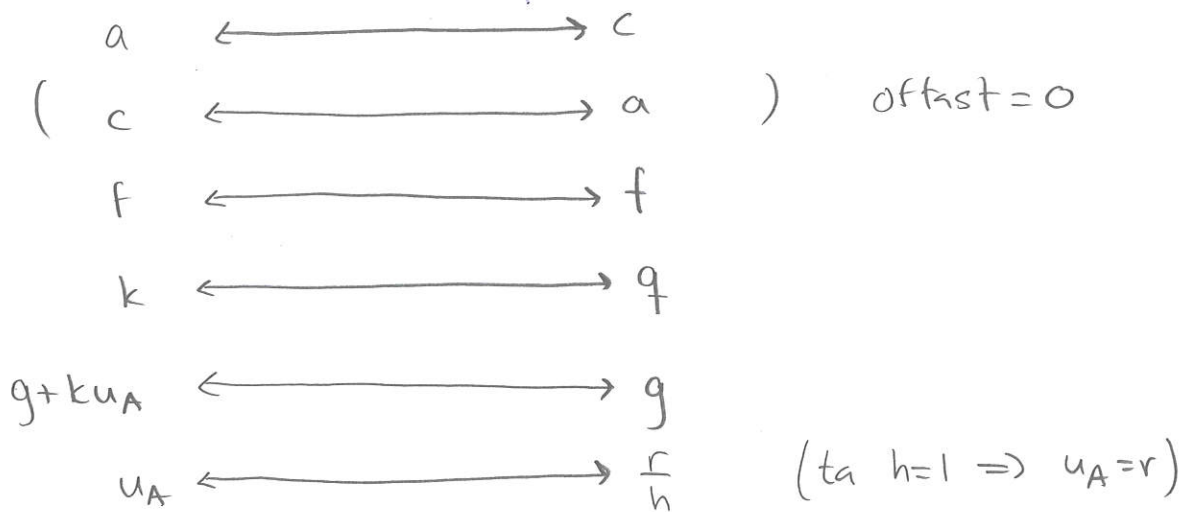
PDE Toolbox:

$$\begin{aligned}
 -\nabla \cdot (c \nabla u) + au &= f \\
 n \cdot (c \nabla u) + qu &= g \\
 hu &= r
 \end{aligned}$$

(Dirichlet)

Vär form

PDE Toolbox



Isolerad rand  $\Rightarrow k = \infty$  god

Inte isolerad alls / oisolerad  $\Rightarrow k = \infty$  (Dirichlet)

Perfekt isolerad  $\Rightarrow k = 0$

# Svara ytparametriseringar

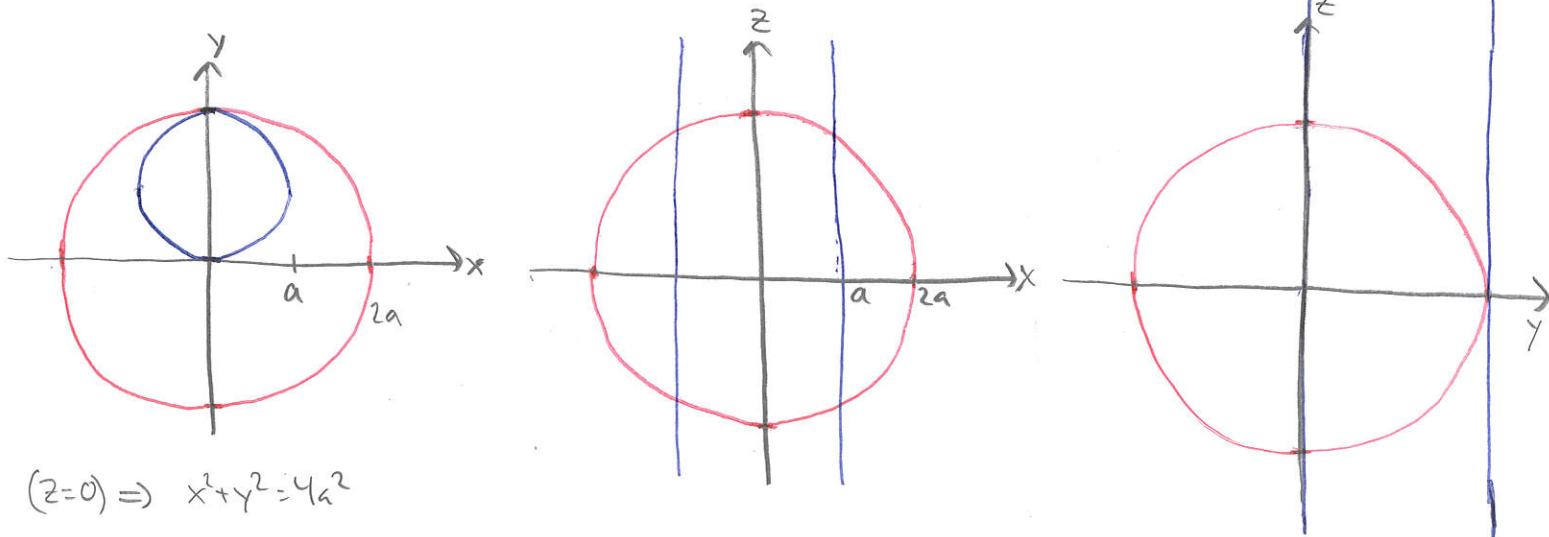
(4)

Ex) Sfer och förskjuten cylinder

$$\text{Sfären: } x^2 + y^2 + z^2 = 4a^2$$

$$\text{Cylinder: } x^2 + y^2 = 2ay \iff x^2 + (y-a)^2 = a^2$$

Vi skissar de tre planen:



$$(z=0) \Rightarrow x^2 + y^2 = 4a^2$$

Ytan av sfären moti cylindern

Tänk den blå cirkeln i första plotten (x-y-planet), fyll den och dra upp (i z-riktning) så att den ligger sig på sfärens yta

Alt. 1: Polära koordinater för förskjuten cylinder som basyta

Tänk  som "basyta", dvs  $x = r \cos \theta$   $0 \leq \theta \leq 2\pi$   
 $y = r \sin \theta + a$   $0 \leq r \leq a$


Vad blir z? Sfärens ekvation ger oss:

$$z = \sqrt{4a^2 - x^2 - y^2} = \sqrt{4a^2 - (r \cos \theta)^2 - (r \sin \theta + a)^2}$$
$$= \sqrt{3a^2 - r^2 - 2ar \sin \theta}$$

$$\text{Alltså: } \mathbf{r}(r, \theta) = (r \cos \theta, r \sin \theta + a, \sqrt{3a^2 - r^2 - 2ar \sin \theta}) \quad \begin{cases} 0 \leq \theta \leq 2\pi \\ 0 \leq r \leq a \end{cases}$$

↑ kommer brastris  
ge jobbig integral

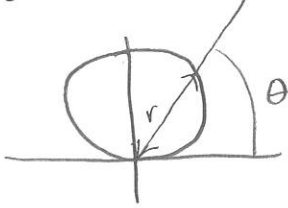
Alt. 2: "Vanliga" polära koordinater som grund

Tänk  som basyta, men nu parametriserad med

$$\begin{aligned} x &= r \cos \theta \\ y &= r \sin \theta, \text{ vi får } 0 \leq \theta \leq \pi \end{aligned}$$

men r-intervallet blir svårare.

För ett givet  $\theta$ :



Ska r gå från 0 ut till cylindern, så:

Cylinderns ekvation ger oss:

$$x^2 + y^2 = 2ay \Leftrightarrow r^2 = 2arsin\theta \Leftrightarrow r = 2asin\theta$$

Alltså:  $0 \leq r \leq 2asin\theta$

Vad blir z? Sätterns ekvation ger oss:

$$z = \sqrt{4a^2 - x^2 - y^2} = \sqrt{4a^2 - r^2}$$

Vi får:

$r(r, \theta) = (r \cos \theta, r \sin \theta, \sqrt{4a^2 - r^2})$	$0 \leq \theta \leq \pi$ $0 \leq r \leq 2asin\theta$
--	---

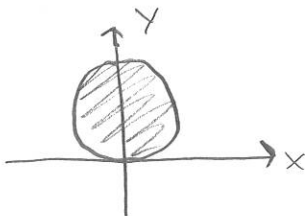
### A1E.3: Sfäriska koordinater

(6)

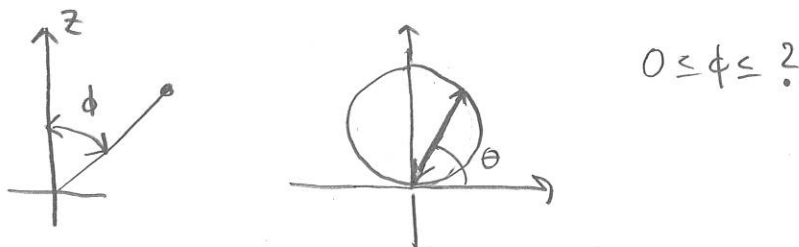
Vi utnyttjar att den sökta ytan ligger på sfären och använder därför sfäriska koordinater:

$$\begin{cases} x = 2a \cos\theta \sin\phi \\ y = 2a \sin\theta \sin\phi \\ z = 2a \cos\phi \end{cases}$$

Vad blir gränserna för  $\theta$  och  $\phi$ ?

Från  ser vi att  $0 \leq \theta \leq \pi$ .

För ett specifikt  $\theta$  är frågan hur långt  $\phi$  ska gå?



Alltså: vad är  $\phi$  på cylindern (där sfären skärs).

Cylinderns ekvation ger:

$$x^2 + y^2 = 2ay$$

$\Leftrightarrow$

$$(2a \cos\theta \sin\phi)^2 + (2a \sin\theta \sin\phi)^2 = 2a \cdot 2a \sin\theta \sin\phi$$

$\Leftrightarrow$

$$4a^2 \cos^2\theta \sin^2\phi + 4a^2 \sin^2\theta \sin^2\phi = 4a^2 \sin\theta \sin\phi$$

$\Rightarrow$

$$\sin\phi = \sin\theta$$

Försiktigt här:

För  $0 \leq \text{vinkel} \leq \frac{\pi}{2}$  har vi  $\sin\phi = \sin\theta \Rightarrow \phi = \theta$

Så  $0 \leq \phi \leq \theta$  om  $0 \leq \theta \leq \frac{\pi}{2}$

Vi får:

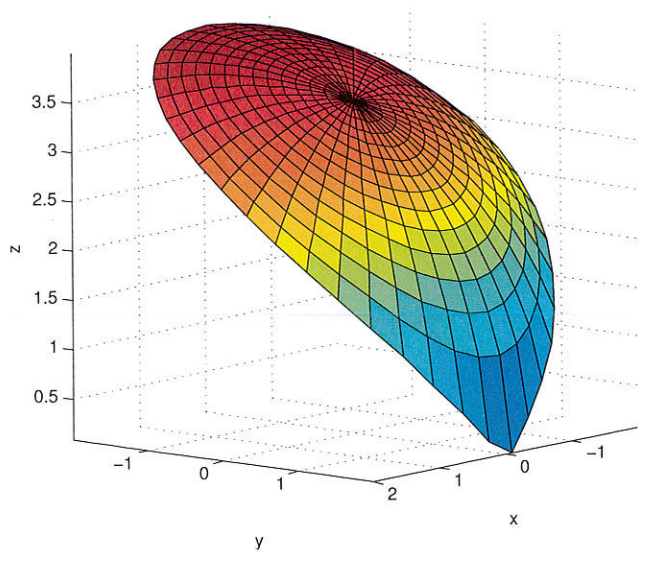
$$r(\phi, \theta) = (2a \cos\theta \sin\phi, 2a \sin\theta \sin\phi, 2a \cos\phi)$$

$$0 \leq \theta \leq \frac{\pi}{2}$$

$$0 \leq \phi \leq \theta$$

NOTERA

( $\uparrow$  Ta gånge 2 i )  
integralen



```

a = 2;
r = linspace(0, a, 15);
t = linspace(0, 2 * pi, 40);
[R, T] = meshgrid(r, t);

X = R .* cos(T);
Y = R .* sin(T);
Z = sqrt(3 * a^2 - R.^2 - 2 * a * R .* sin(T));

surf(X, Y, Z)
axis equal

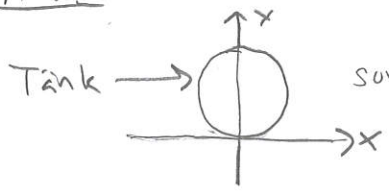
```

Delen av sfären inuti cylindern. (övre delen)

Delen av cylindern inuti sfären

Tänk den blå cirkeln i första plotten (x-y-planet) och dra en yta från cirkeln rakt upp och rakt ner (i z-riktning) till sfärens yta.

Alt 1: Polära koordinater för förskjutna cylinder som grund



som bas, dvs:  $x = a \cos \theta$   $0 \leq \theta \leq 2\pi$   
 $x = a \sin \theta + a$

Låt  $z = z$  och sätt gräns  $0 \leq z \leq$  sfärens yta  
 ↑  
 om vi vill har övre halvan  
 annars: sfärens yta  $\leq z \leq$  sfärens yta

Sfärens yta ges av dess ekvation:


$$x^2 + y^2 + z^2 = 4a^2 \Rightarrow z = \sqrt{4a^2 - x^2 - y^2} = \sqrt{4a^2 - (a \cos \theta)^2 - (a \sin \theta + a)^2}$$

$$= \sqrt{2a^2 - 2a^2 \sin \theta} = a\sqrt{2} \sqrt{1 - \sin \theta}$$

Alltså:  $r(\theta, z) = (a \cos \theta, a \sin \theta + a, z)$   $0 \leq \theta \leq 2\pi$   
 $0 \leq z \leq a\sqrt{2} \sqrt{1 - \sin \theta}$  (övre halvan)



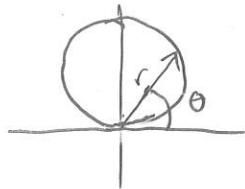
Alt. 2: "Vanliga" polära koordinater som grund.



Tänk → som bas men nu parametriserad som  $x = r \cos \theta$   
 $y = r \sin \theta$

$0 \leq \theta \leq \pi$ . Vad blir r:s gräns?

För ett givet  $\theta$  ges r, av cirkeln:



Cirkeln ges av  $x^2 + y^2 = 2ay \Leftrightarrow r^2 = 2arsin\theta \Rightarrow \underline{r = 2asin\theta}$

Vi får alltså  $x = 2asin\theta \cos\theta$   
 $y = 2a \sin\theta \sin\theta$

Vi låter  $z = 0$ , gränsen blir  $0 \leq z \leq$  sfærens yta  
( övre halvan )

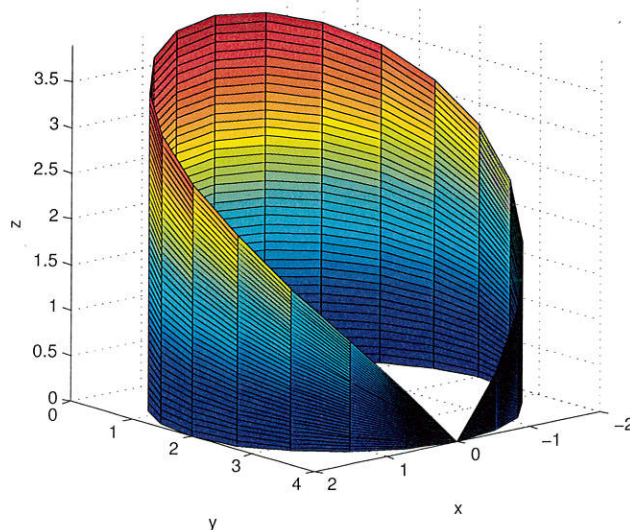
Sfærens yta ges av  $x^2 + y^2 + z^2 = 4a^2 \Rightarrow z = \sqrt{4a^2 - r^2} = \sqrt{4a^2 - 4a^2 \sin^2\theta}$

Alltså:  $r(\theta, z) = (2a \sin\theta \cos\theta, 2a \sin\theta \sin\theta, z)$   $0 \leq \theta \leq \pi$   
 $0 \leq z \leq 2a \sqrt{1 - \sin^2\theta}$

```
a = 2;
t = linspace(0, 2 * pi, 41);
z = 0:40;
[T, Z] = meshgrid(t, z);
for i = 1:41
    Z(:, i) = Z(:, i) / 41 * 2 * a * sqrt(1 - sin(t(i)).^2);
end

X = 2 * a * sin(T) .* cos(T);
Y = 2 * a * sin(T) .* sin(T);

surf(X, Y, Z)
axis equal
```





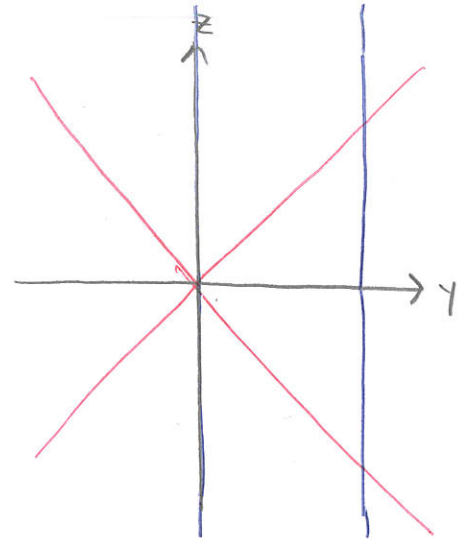
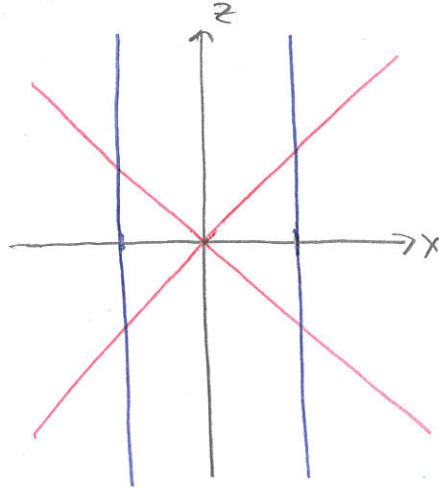
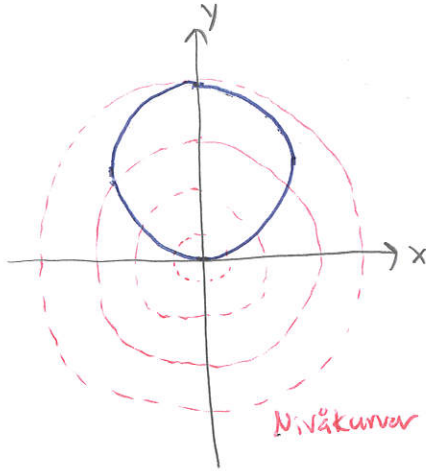
Ex) Kon och förskjuten cylinder

9.

Kon:  $z^2 = x^2 + y^2$

Cylinder:  $x^2 + y^2 = 2ay \Leftrightarrow x^2 + (y-a)^2 = a^2$


Vi skisserar de tre planen:



Delen av konen som ligger inuti cylinder

Tänk den blå cirkeln i första plotten (x-y-planet), fyll den och dra upp (i z-riktning), den så att den ligger sig på konens yta.

Alt 1: Polära koordinater för förskjuten cylinder som grund

Tänk  som basyta; dvs  $x = r \cos \theta$   $0 \leq \theta \leq 2\pi$   
 $y = r \sin \theta + a$   $0 \leq r \leq a$

Vad blir z? Konens ekvation ger

$$z^2 = x^2 + y^2 \Rightarrow z = \sqrt{x^2 + y^2} = \sqrt{(r \cos \theta)^2 + (r \sin \theta + a)^2} = \sqrt{r^2 + 2ras \sin \theta + a^2}$$

Vi får: 
$$r(r, \theta) = (r \cos \theta, r \sin \theta + a, \sqrt{r^2 + 2ras \sin \theta + a^2})$$
  $0 \leq \theta \leq 2\pi$   
 $0 \leq r \leq a$

Alt 2: "vanliga" polära koordinater som grund

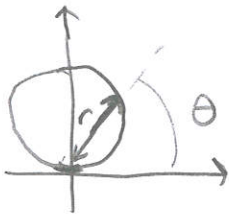
Tänk  som basyta, men nu parametriserad med

$x = r \cos \theta$   
 $y = r \sin \theta$ , vi får  $0 \leq \theta \leq \pi$



r-gränsen blir svårare: för ett givet  $\theta$ :

(10)



ska r gå från 0 ut till cylindern. Cylinderns ekvation ger oss:

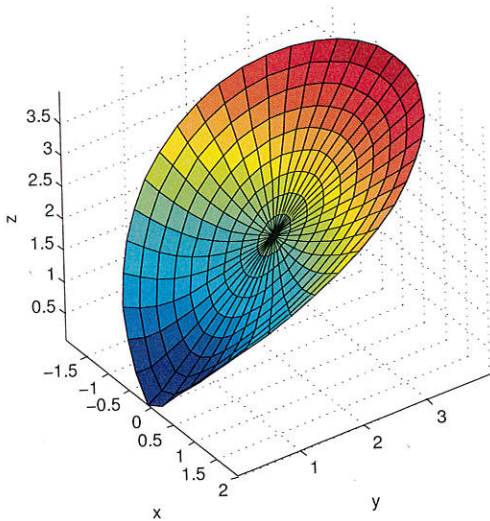
$$x^2 + y^2 = 2ay \Rightarrow r^2 = 2ar \sin \theta \Rightarrow r = 2a \sin \theta$$

Alltså:  $0 \leq r \leq 2a \sin \theta$

Vad blir  $z$ ? Korns ekvation ger oss  $z^2 = x^2 + y^2 = r^2 \Rightarrow z = r$

Vi får

$r(r, \theta) = (r \cos \theta, r \sin \theta, r)$	$0 \leq \theta \leq \pi$ $0 \leq r \leq 2a \sin \theta$
--	--



```
a = 2;
r = linspace(0, a, 10);
t = linspace(0, 2 * pi, 40);
[R, T] = meshgrid(r, t);

X = R .* cos(T);
Y = R .* sin(T) + a;
Z = sqrt(R.^2 + 2 * R .* a .* sin(T) + a^2);

surf(X, Y, Z)
axis equal
```

Del av övre korn som ligger inuti cylindern.

(Notera hur de svarta linjerna hänger ihop med parametriseringen)




## Delen av cylindern som ligger utanför konen

(11)

Tänk den blå cirkeln i x-y-plansplattan och ytan som bildas om den blå cirkeln fortsätter uppåt i z-riktning. Alltså den mäter konen.

Alt 1: Polära koordinater för förskjutna cylinder som grund

Tänk  som bas:  $x = a \cos \theta$   
 $y = a \sin \theta + a$   $0 \leq \theta \leq 2\pi$

Låt  $z = z$  och sätt gräns från  $z = 0$  till konen som

$$\begin{aligned} \text{ges av } z^2 = x^2 + y^2 &= (a \cos \theta)^2 + (a \sin \theta + a)^2 = a^2 \cos^2 \theta + a^2 \sin^2 \theta + 2a^2 \sin \theta + a^2 \\ &= 2a^2 + 2a^2 \sin \theta \Rightarrow z = \sqrt{2} a \sqrt{1 + \sin \theta} \end{aligned}$$

Alltså:  $0 \leq z \leq a\sqrt{2} \sqrt{1 + \sin \theta}$

Vi får

$$\begin{aligned} \mathbf{r}(\theta, z) &= (a \cos \theta, a \sin \theta + a, z) & 0 \leq \theta \leq 2\pi \\ & & 0 \leq z \leq a\sqrt{2} \sqrt{1 + \sin \theta} \end{aligned}$$

Alt 2: "Vanliga" polära koordinater som grund

Tänk  som bas, parameteriserad med  $\begin{cases} x = r \cos \theta \\ y = r \sin \theta \end{cases}$   $0 \leq \theta \leq \pi$

Cylinderns ekvation ger oss:  $x^2 + y^2 = 2ay \Rightarrow r^2 = 2ars \sin \theta$   
 $\Rightarrow r = 2a \sin \theta$

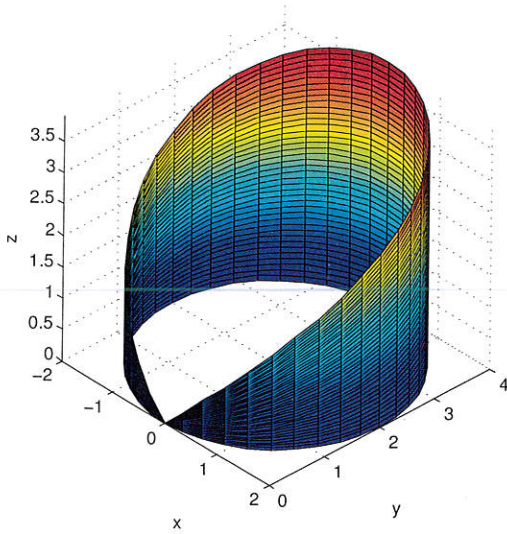
Alltså:  $x = 2a \sin \theta \cos \theta$   
 $y = 2a \sin \theta \sin \theta$   $0 \leq \theta \leq \pi$

Låt  $z = z$  och sätt gräns från  $z = 0$  till konen som

ges av  $z^2 = x^2 + y^2 = r^2 \Rightarrow z = r = 2a \sin \theta$

Vi får:

$$\begin{aligned} \mathbf{r}(\theta, z) &= (2a \sin \theta \cos \theta, 2a \sin \theta \sin \theta, z) & 0 \leq \theta \leq \pi \\ & & 0 \leq z \leq 2a \sin \theta \end{aligned}$$



```

a = 2;
t = linspace(0, pi, 41);
z = 0:40;
[T, Z] = meshgrid(t, z);
for i = 1:41
    Z(:, i) = Z(:, i) / 41 * 2 * a * sin(t(i));
end

X = 2 * a * sin(T) .* cos(T);
Y = 2 * a * sin(T) .* sin(T);

surf(X, Y, Z)
axis equal

```

Övre delen av cylindern som ligger utanför konen.