

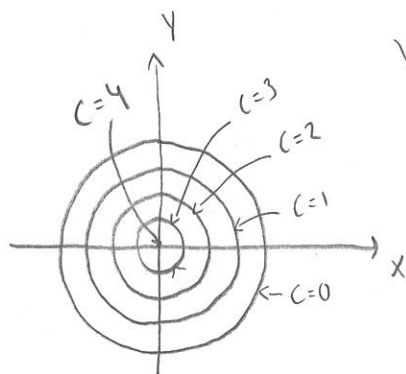
RÖ2 NIVÅKURVOR, GRÄNSVÄRDEN, PARTIELLA DERIVATOR

Nivåkurvor

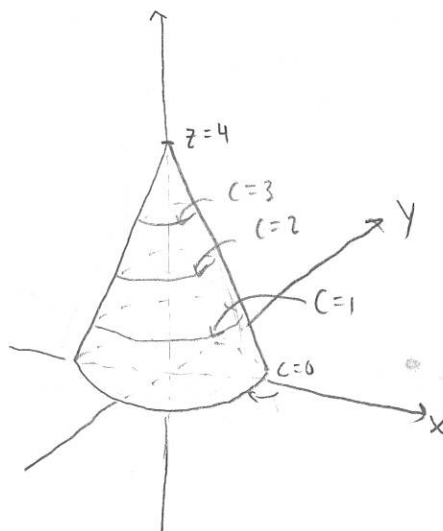
En nivåkurva till en funktion $z=f(x,y)$ är en kurva där funktionen har samma värde, dvs

$$f(x,y) = C$$

Exempel:



vad är detta?



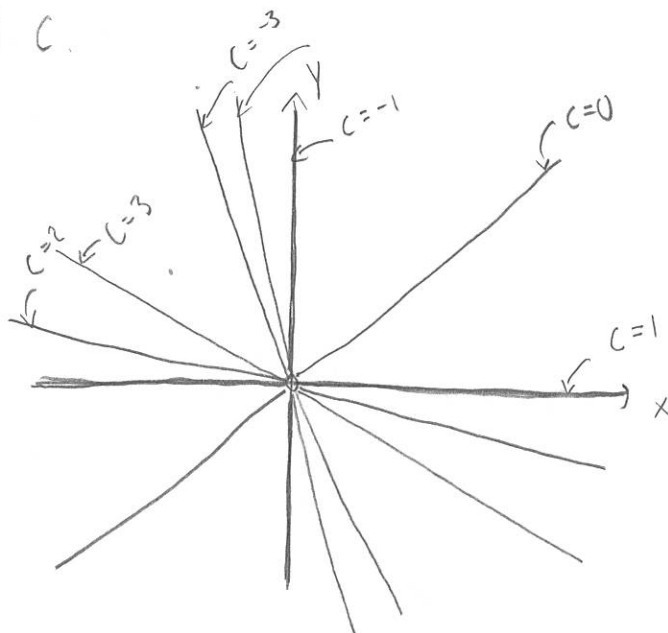
12.1.23. Skissa några nivåkurvor till $f(x,y) = \frac{x-y}{x+y}$.

Kurvorna uppfyller $f(x,y) = C$, $\frac{x-y}{x+y} = C \Leftrightarrow (x-y) = C(x+y)$

$\Leftrightarrow y(C+1) = x(1-C) \Leftrightarrow y = \frac{1-C}{1+C}x$ en linjär funktion av x .

Vi testar några olika värden på C .

- $C = -3 : y = -2x$
- $C = -2 : y = -3x$
- $C = -1 : x = 0$
- $C = 0 : y = x$
- $C = 1 : y = 0$
- $C = 2 : y = -1/3x$
- $C = 3 : y = -1/2x$

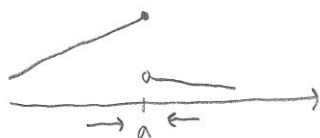


Gränsvärden i 2D

En funktion $f(x,y)$ har gränsvärdet L i punkten (a,b) , $\lim_{(x,y) \rightarrow (a,b)} f(x,y) = L$, om

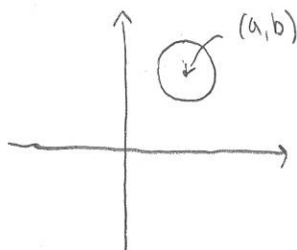
$$\forall \varepsilon > 0 \exists \delta > 0 : 0 < \sqrt{(x-a)^2 + (y-b)^2} < \delta \Rightarrow |f(x,y) - L| < \varepsilon.$$

1D:



Måste bli samma från höger och vänster om ska ha gränsvärde i a .

2D:



Måste bli samma från alla håll om ska ha gränsvärde i (a,b) .

Metod för att hitta gränsvärde / visa att det inte existerar.

1. Kolla vad gränsvärdet blir längs några typiska riktningar, om det blir olika kan det inte existera. Några typiska riktningar kan vara $x=0$, $y=0$, $y=x$, $y=x^2$.
2. Om det blir lika längs några olika riktningar och man tror att det existerar, visa det genom att kolla på

$$|f(x,y) - L|$$

och visa att det är mindre än något som går mot noll, då måste även

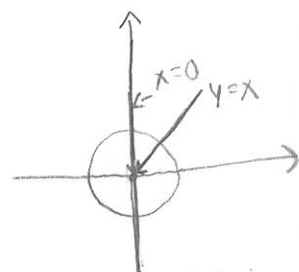
$$|f(x,y) - L| \rightarrow 0$$

12.29. Beräkna $\lim_{(x,y) \rightarrow (0,0)} \frac{\sin(xy)}{x^2 + y^2}$ eller visa att det inte existerar.

Kolla längs några olika riktningar.

$$\underline{x=0}: \lim_{(x,y) \rightarrow (0,0)} \frac{\sin(0 \cdot y)}{0 + y^2} = \lim_{y \rightarrow 0} \frac{0}{y^2} = \lim_{y \rightarrow 0} 0 = 0$$

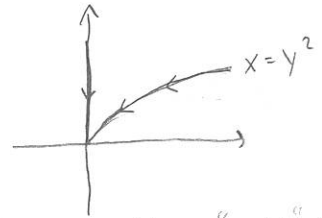
$$\underline{y=x}: \lim_{(x,y) \rightarrow (0,0)} \frac{\sin(x^2)}{x^2 + x^2} = \frac{1}{2} \lim_{x \rightarrow 0} \frac{\sin x^2}{x^2} = \frac{1}{2} \cdot 1 = \frac{1}{2}$$



Olika längs olika riktningar \Rightarrow gränsvärdet existerar ej

12.2.11. Beräkna $\lim_{(x,y) \rightarrow (0,0)} \frac{x^2 y^2}{x^2 + y^4}$ eller visa att det inte existerar.

$$\underline{x=0}: \lim_{y \rightarrow 0} \frac{0 \cdot y^2}{0 + y^4} = \lim_{y \rightarrow 0} \frac{0}{y^4} = \lim_{y \rightarrow 0} 0 = 0$$



$$\underline{x=y^2}: \lim_{y \rightarrow 0} \frac{y^4 \cdot y^2}{y^4 + y^4} = \lim_{y \rightarrow 0} \frac{y^6}{2y^4} = \lim_{y \rightarrow 0} \frac{y^2}{2} = 0$$

samma, vi antar att gränsvärdet kanske existerar så vi försöker visa det.

$$|f(x,y) - 0| = \left| \frac{x^2 y^2}{x^2 + y^4} \right| \leq \{x^2 \leq x^2 + y^4\} \leq \left| \frac{(x^2 + y^4) y^2}{x^2 + y^4} \right| = y^2 \rightarrow 0, \quad (x,y) \rightarrow (0,0)$$

Vi har visat att avståndet mellan vår funktion och 0 blir mindre än något som går mot noll \Rightarrow gränsvärdet är 0.

Partiella derivator

En partiell derivata till en funktion $f(x,y)$ är dess derivata m.a.p.

en av dess variabler

$$f_1(x,y) = \frac{\partial}{\partial x} f(x,y) = \lim_{h \rightarrow 0} \frac{f(x+h,y) - f(x,y)}{h}$$

om dessa existerar

$$f_2(x,y) = \frac{\partial}{\partial y} f(x,y) = \lim_{k \rightarrow 0} \frac{f(x,y+k) - f(x,y)}{k}$$

Deriverar man m.a.p. x ses y som en konstant.

12.3.11. Beräkna $f_1(0,0)$ med definitionen för derivata då

$$f(x,y) = \begin{cases} \frac{2x^3 - y^3}{x^2 + 3y^2}, & (x,y) \neq (0,0) \\ 0, & (x,y) = (0,0) \end{cases}$$

$$f_1(0,0) = \lim_{h \rightarrow 0} \frac{f(0+h,0) - f(0,0)}{h} = \lim_{h \rightarrow 0} \frac{\frac{2h^3}{h^2} - 0}{h} = \lim_{h \rightarrow 0} \frac{2h^3}{h^3} = 2$$

12.3.25. Visa att $z = xe^y$ uppfyller $x \frac{\partial z}{\partial x} = \frac{\partial z}{\partial y}$.

$$\frac{\partial z}{\partial x} = \{y \text{ konstant}\} = e^y$$

$$\text{och } x \frac{\partial z}{\partial x} = x \cdot e^y = \frac{\partial z}{\partial y}$$

$$\frac{\partial z}{\partial y} = \{x \text{ konstant}\} = xe^y$$

12.4.17. Visa att $u(x,t) = t^{-1/2} e^{-x^2/4t}$ uppfyller $\frac{\partial u}{\partial t} = \frac{\partial^2 u}{\partial x^2}$

$$\frac{\partial u}{\partial t} = \text{produktregeln} = -\frac{1}{2} t^{-3/2} e^{-x^2/4t} + t^{-1/2} e^{-x^2/4t} \cdot (-x^2) \frac{(-1)}{4} t^{-2}$$

$$= \frac{1}{2} t^{-3/2} e^{-x^2/4t} \left(-1 + \frac{1}{2} \frac{x^2}{t} \right)$$

$$\frac{\partial u}{\partial x} = t^{-1/2} e^{-x^2/4t} \cdot \frac{-1}{4t} 2x = -\frac{1}{2} t^{-3/2} x e^{-x^2/4t}$$

$$\frac{\partial^2 u}{\partial x^2} = \frac{\partial}{\partial x} \left(\frac{\partial u}{\partial x} \right) = \text{produktregeln} = -\frac{1}{2} t^{-3/2} \left(e^{-x^2/4t} + x e^{-x^2/4t} \cdot \frac{(-2x)}{4t} \right)$$

$$= -\frac{1}{2} t^{-3/2} e^{-x^2/4t} \left(1 - \frac{1}{2} \frac{x^2}{t} \right) = \frac{1}{2} t^{-3/2} e^{-x^2/4t} \left(-1 + \frac{1}{2} \frac{x^2}{t} \right) = \frac{\partial u}{\partial t}$$