

# SISTA RÖ INNAN SOMMAREN ☀

- volymintegral
- svag formulering
- flöde
- kurvintegral
- härledning av partiell integration
- max/min i begränsat område
- gränsvärde i 2D
- pde toolbox
- linjär approx.
- tangentplan / tangentlinje
- riktningsderivata

140527. 5. Beräkna  $\iiint_D x^3 y^2 z \, dV$ , där  $D = \{(x, y, z) : 0 \leq x \leq 1, 0 \leq y \leq x, 0 \leq z \leq xy\}$

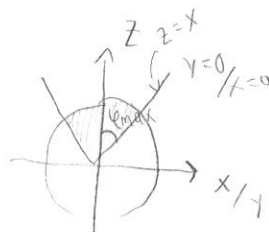
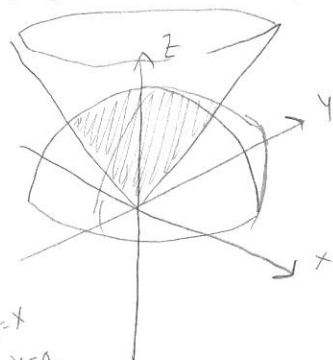
$$\int_{x=0}^1 \int_{y=0}^x \int_{z=0}^{xy} x^3 y^2 z \, dx \, dy \, dz = \int_0^1 \int_0^x x^3 y^2 \left[ \frac{z^2}{2} \right]_0^{xy} dy \, dx = \frac{1}{2} \int_0^1 \int_0^x x^5 y^4 dy \, dx$$

$$= \frac{1}{2} \int_{x=0}^1 x^5 \left[ \frac{y^5}{5} \right]_0^x dx = \frac{1}{2} \int_{x=0}^1 \frac{x^{10}}{5} dx = \frac{1}{10 \cdot 11} [x^{11}]_0^1 = \frac{1}{110}$$

130116. 5. Beräkna volymen av området  $D = \{(x, y, z) : z^2 \geq x^2 + y^2, z \geq 0, x^2 + y^2 + z^2 \leq 9\}$ .

Sfäriska koord 
$$\begin{cases} x = R \sin \phi \cos \theta \\ y = R \sin \phi \sin \theta \\ z = R \cos \phi \end{cases}$$

$$dV = R^2 \sin \phi \, dR \, d\phi \, d\theta$$



$$\Rightarrow \phi_{\max} = \frac{\pi}{4}$$

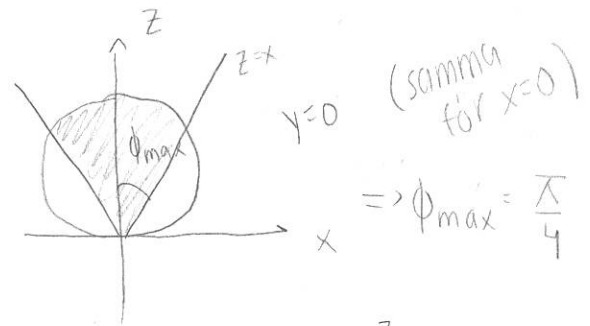
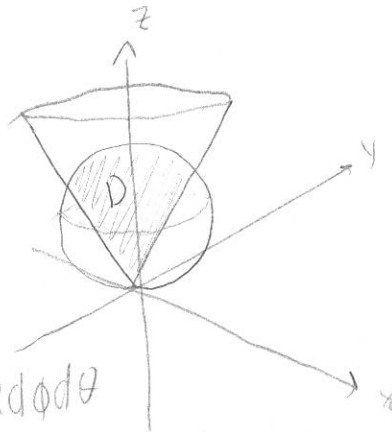
$$V = \iiint_D dv = \int_0^{\pi/4} \int_0^{2\pi} \int_0^{\sqrt{2}} R^2 \sin\phi dR d\phi d\theta = 2\pi \int_0^{\pi/4} \left[ \frac{R^3}{3} \right]_0^{\sqrt{2}} \sin\phi d\phi = 18\pi [-\cos\phi]_0^{\pi/4}$$

$$= 18\pi \left( -\frac{1}{\sqrt{2}} - (-1) \right) = 9\pi(2 - \sqrt{2})$$

15.0415.6. Beräkna volymen av området ovanför konen  $z = \sqrt{x^2 + y^2}$  och under sfären  $x^2 + y^2 + (z - \frac{1}{2})^2 = \frac{1}{4}$ .

$$V = \iiint_D dv$$

Sfäriska koord.  $\begin{cases} x = R \sin\phi \cos\theta \\ y = R \sin\phi \sin\theta \\ z = R \cos\phi \end{cases}, dv = R^2 \sin\phi dR d\phi d\theta$



Integrationsgränser?

Ett helt varv  $\Rightarrow \theta \in [0, 2\pi]$

$\phi \in [0, \phi_{\max}] = [0, \pi/4]$ , se bild t.h.

Eftersom sfären inte har centrum i origo beror  $R$  av  $\phi$

cosinussatsen ger  $(\frac{1}{2})^2 = (\frac{1}{2})^2 + R_{\max}^2 - 2 \cdot \frac{1}{2} \cdot R_{\max} \cdot \cos\phi$

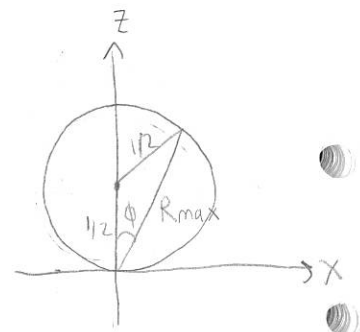
$$\Rightarrow R_{\max} = \cos\phi$$

$$\Rightarrow R \in [0, R_{\max}] = [0, \cos\phi]$$

Vi får  $V = \iiint_D dv = \int_0^{2\pi} \int_0^{\pi/4} \int_0^{\cos\phi} R^2 \sin\phi dR d\phi d\theta = 2\pi \int_0^{\pi/4} \sin\phi \left[ \frac{R^3}{3} \right]_0^{\cos\phi} d\phi$

$$= \frac{2\pi}{3} \int_0^{\pi/4} \sin\phi \cos^3\phi d\phi = \frac{2\pi}{3} \left[ -\frac{1}{4} \cos^4\phi \right]_0^{\pi/4} = \frac{\pi}{6} \left( -\left(\frac{1}{\sqrt{2}}\right)^4 - (-1) \right) = \frac{\pi}{6} \left( 1 - \frac{1}{4} \right)$$

$$= \frac{\pi}{8}$$



150415.4. Härled svaga formuleringen av 
$$\begin{cases} -\nabla \cdot (a \nabla u) = f, & \text{i } D, \\ a D_{\hat{n}} u + k(u - u_a) = g, & \text{på } S. \end{cases}$$

Mult. m. testfunktion  $v$  och integrera partiellt över  $D$

$$\iiint_D -\nabla \cdot (a \nabla u) v \, dV = \{p.i.\} = - \iint_S \hat{n} : a \nabla u v \, dS + \iiint_D a \nabla u \cdot \nabla v \, dV$$

$$= - \iint_S a D_{\hat{n}} u v \, dS + \iiint_D a \nabla u \cdot \nabla v \, dV = \{anv. randvillkor\}$$

$$= \iint_S (k(u - u_a) - g) v \, dS + \iiint_D a \nabla u \cdot \nabla v \, dV = \{sätt lika m. h.t.\} = \iiint_D f v \, dV$$

Flytta allt med  $u$  till vänster led

$$\iiint_D a \nabla u \cdot \nabla v \, dV + \iint_S k u v \, dS = \iiint_D f v \, dV + \iint_S (k u_a + g) v \, dS \quad (*)$$

Svag formulering av problemet:

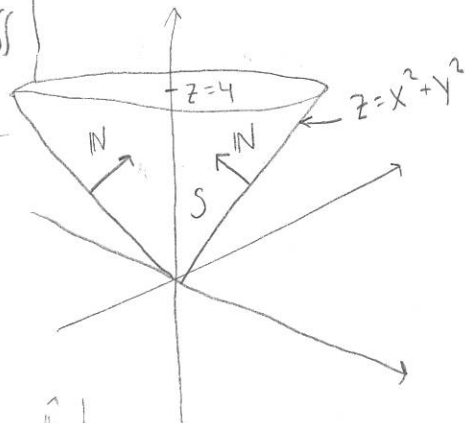
Hitta  $u$  så att

(\*)

gäller för alla testfunktioner  $v$ .

110827.6. Beräkna flödet av  $\mathbf{F} = (x, y, 0)$  genom den del av ytan  $z = x^2 + y^2$  som ligger under planet  $z = 4$ . Ytan orienteras med uppåtriktad normal.

$$\boxed{\iint_S \mathbf{F} \cdot \hat{\mathbf{N}} \, dS = \iint_S \mathbf{F} \cdot d\mathbf{S}}$$



• Parametrisera ytan

$$\begin{cases} x = r \cos \theta \\ y = r \sin \theta \\ z = r^2 \end{cases} \Rightarrow \mathbf{r}(r, \theta) = (r \cos \theta, r \sin \theta, r^2)$$

• Hitta  $d\mathbf{S} = \pm \frac{\partial \mathbf{r}}{\partial r} \times \frac{\partial \mathbf{r}}{\partial \theta} \, dr d\theta = (\pm) \begin{vmatrix} \hat{i} & \hat{j} & \hat{k} \\ \cos \theta & \sin \theta & 2r \\ -r \sin \theta & r \cos \theta & 0 \end{vmatrix} dr d\theta$

$= (\pm) (-2r^2 \cos \theta, -2r^2 \sin \theta, r)$ . Uppåtnormal  $\Rightarrow z$ -komp. i  $d\mathbf{S} \geq 0 \Rightarrow$  vi väljer positivt tecken.

Hitta gränser för  $r, \theta$ .  $\theta \in [0, 2\pi]$  (ett helt varv)  
 $r \in [0, r_{\max}]$  där  $r_{\max}$  radien då  $z = 4$ .

Eftersom  $z = r^2 \Rightarrow r_{\max} = 2$ .

• Uttryck  $\mathbf{F}$  i  $\mathbf{r}(r, \theta)$ , dvs byt ut  $x$  mot  $r \cos \theta$ ,  $y$  mot  $r \sin \theta$  och  $z$  mot  $r^2$ .


$$\Rightarrow \mathbf{F}(r, \theta) = (r \cos \theta, r \sin \theta, 0)$$

• Beräkna flödet  $= \iint_S \mathbf{F} \cdot \hat{\mathbf{N}} \, dS = \iint_S \mathbf{F} \cdot d\mathbf{S} = \int_{\theta=0}^{2\pi} \int_{r=0}^2 (r \cos \theta, r \sin \theta, 0) \cdot (-2r^2 \cos \theta, -2r^2 \sin \theta, r) \, dr d\theta$

$$= \int_{\theta=0}^{2\pi} \int_{r=0}^2 -2r^3 \, dr d\theta = 2\pi \left[ -\frac{2r^4}{4} \right]_0^2 = -16\pi$$

120111.5. Beräkna  $\int_C \mathbf{F} \cdot d\mathbf{r}$  där  $\mathbf{F} = (xy, xz, yz)$  och  $C: \mathbf{r}(t) = (t, t^2, t^2)$ ,  $t \in [0, 1]$

•  $\mathbf{F}$  är uttr. i  $(x, y, z)$  och kurvan i  $t \Rightarrow$   
 uttryck  $\mathbf{F}$  i  $t$ ,  $\mathbf{F} = \mathbf{F}(\mathbf{r}(t)) = (t^3, t^3, t^4)$



• Hitta  $d\mathbf{r} = \frac{d\mathbf{r}}{dt} dt = (1, 2t, 2t) dt$

$$\int_C \mathbf{F} \cdot d\mathbf{r} = \int_{t=0}^1 (t^3, t^3, t^4) \cdot (1, 2t, 2t) dt = \int_{t=0}^1 t^3 + 2t^4 + 2t^5 dt = \left[ \frac{t^4}{4} + \frac{2t^5}{5} + \frac{1}{3}t^6 \right]_0^1$$

$$= \frac{1}{4} + \frac{2}{5} + \frac{1}{3} = \frac{15 + 24 + 20}{60} = \frac{59}{60}$$

140115.8. Härled partialintegrationsformeln  $\iiint_D \nabla \cdot (\mathbf{F} \phi) dV = \iint_S \hat{\mathbf{n}} \cdot \mathbf{F} \phi dS - \iiint_D \mathbf{F} \cdot \nabla \phi dV$

Allt som behövs är Gauss sats + produktregeln.

• Gauss sats  $\iiint_D \nabla \cdot \mathbf{F} dV = \iint_S \hat{\mathbf{n}} \cdot \mathbf{F} dS$

• Produktregeln  $\nabla \cdot (\mathbf{F} \phi) = \nabla \cdot \mathbf{F} \phi + \mathbf{F} \cdot \nabla \phi$

•  $\iiint_D \nabla \cdot (\mathbf{F} \phi) dV = \{ \text{produktregeln} \} = \iiint_D \nabla \cdot \mathbf{F} \phi dV + \iiint_D \mathbf{F} \cdot \nabla \phi dV$

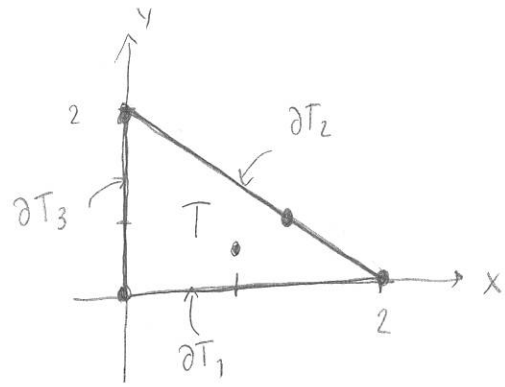
=  $\{ \text{divergenssatsen} \} = \iint_S \hat{\mathbf{n}} \cdot \mathbf{F} \phi dS$

Vi får

$$\iiint_D \nabla \cdot \mathbf{F} \phi dV = \iint_S \hat{\mathbf{n}} \cdot \mathbf{F} \phi dS - \iiint_D \mathbf{F} \cdot \nabla \phi dV$$

Kom ihåg: använd divergenssatsen på produktregeln.

14.08.30. Bestäm största och minsta värde av  $f(x,y) = x^2y - x - y$  på den slutna triangeln med hörn i  $(0,0)$ ,  $(2,0)$  och  $(0,2)$ .



Max/min finns i

- kritiska punkter,  $\nabla f = 0$
- singulära punkter,  $\nabla f$  ej def.
- randpunkter till området.

• Kritiska punkter

$$\nabla f = (2xy - 1, x^2 - 1) = (0, 0) \Rightarrow \begin{cases} 2xy = 1 \Rightarrow y = \frac{1}{2x} \\ x^2 = 1 \Rightarrow x = \pm 1 \end{cases}$$

$$\Rightarrow \boxed{(1, \frac{1}{2})}, (-1, -\frac{1}{2}) \text{ kritiska punkter.}$$

Endast  $(1, \frac{1}{2})$  ligger i triangeln!

Kandidatpunkter

$$(1, \frac{1}{2}), (0,0), (2,0), (\frac{4}{3}, \frac{2}{3}), (0,2)$$

• Singulära punkter

Saknas, snäll funktion

• randpunkter

$\partial T_1$ :  $y=0 \Rightarrow$  vi får funktionen  $g(x) = f(x,0) = -x$  som vi ska maximera/

minimera för  $x \in [0,2]$ .

Vi får kolla kritiska, singulära och randpunkter i detta nya område.

• kritiska punkter

$$g'(x) = -1 \Rightarrow \text{kritiska punkter saknas}$$

• singulära saknas

• randpunkter  $(0,0), (2,0)$

$\partial T_2: y = 2 - x \quad g(x) = f(x, 2-x) = x^2(2-x) - x - 2 + x = -x^3 + 2x^2 - 2, x \in [0, 2]$   
 $g'(x) = -3x^2 + 4x = 0 \Rightarrow x = 0$  eller  $x = \frac{4}{3} \Rightarrow$  kritisk punkt  $(\frac{4}{3}, \frac{2}{3})$   
 ej inre punkt i intervallet  $\nearrow$

randpunkter  $(0, 2), (2, 0)$ , singulära saknas

$\partial T_3: x = 0 \quad g(y) = f(0, y) = -y, y \in [0, 2]$

$g'(y) = -1 \Rightarrow$  inga kritiska punkter

randpunkter  $(0, 0), (0, 2)$

kolla kandidatpunkterna

$f(1, \frac{1}{2}) = 1 \cdot \frac{1}{2} - 1 - \frac{1}{2} = -1$

$f(0, 0) = 0 \leftarrow \text{max}$

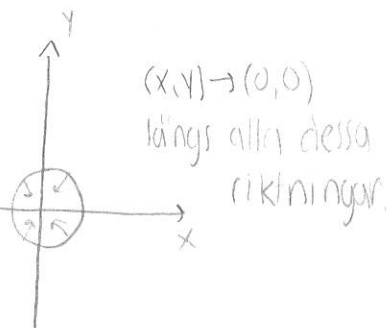
$f(2, 0) = -2 \leftarrow \text{min}$

$f(\frac{4}{3}, \frac{2}{3}) = \frac{16}{9} \cdot \frac{2}{3} - \frac{4}{3} - \frac{2}{3} = \frac{32 - 36 - 18}{27} = -\frac{22}{27}$

$f(0, 2) = -2 \leftarrow \text{min}$

130116. 1 b) undersök gränsvärdet  $\lim_{(x,y) \rightarrow (0,0)} \frac{x^2 - y^2}{x^2 + y^2}$ .

Kolla längs några olika riktningar vad vi får för gränsv.



$x=0: \lim_{y \rightarrow 0} \frac{-y^2}{y^2} = -1$

$y=0: \lim_{x \rightarrow 0} \frac{x^2}{x^2} = 1$

olika gränsvärde beroende på vilken riktning vi tar mot origo

$\Rightarrow$  gränsvärdet existerar ej.

150415. Pde toolbox har dessa beteckningar för randvillkor

$$n \cdot (\nabla u) + qu = g \text{ på } S_2 \text{ (Neumann)}$$

$$hu = r \text{ på } S_1 \text{ (Dirichlet)}$$

vad fylla i på en rand som är isolerad med värmeöverföringskoeff 5, omgivande temperatur 10 och inga yttre värmekällor.

$$q = \text{värmeöverf. koeff} = 5$$

$$g = \text{värmeöverf. koeff} \cdot \text{omg. temp} + \text{yttre värmekällor} = 5 \cdot 10 + 0 = 50.$$

$$\text{Jfr } aD_n^2 u + k(u - u_a) = g \quad \Leftrightarrow \quad aD_n^2 u + ku = ku_a + g$$

$\uparrow$  omg. temp  
 $\uparrow$  värmekällor  
 $\uparrow$  värmeöverf. koeff

140115.2. Beräkna linjära approximationen till  $f(x) = x_1 e^{x_2 x_3} - \sqrt{x_1 - x_2^2}$  kring  $(4, 1, 0)$

$$L(x) = f(4, 1, 0) + \frac{\partial f}{\partial x_1}(4, 1, 0)(x_1 - 4) + \frac{\partial f}{\partial x_2}(4, 1, 0)(x_2 - 1) + \frac{\partial f}{\partial x_3}(4, 1, 0)x_3$$

$$= 4 - \sqrt{3} + \left( e^{x_2 x_3} - \frac{1}{2\sqrt{x_1 - x_2^2}} \right) \Big|_{(4, 1, 0)} (x_1 - 4) + \left( x_1 x_3 e^{x_2 x_3} - \frac{1 \cdot (-2x_2)}{2\sqrt{x_1 - x_2^2}} \right) \Big|_{(4, 1, 0)} (x_2 - 1)$$

$$+ (x_1 x_2 e^{x_2 x_3}) \Big|_{(4, 1, 0)} x_3 = 4 - \sqrt{3} + \left( 1 - \frac{1}{2\sqrt{3}} \right) (x_1 - 4) + \left( 0 + \frac{1}{\sqrt{3}} \right) (x_2 - 1)$$

$$+ 4x_3$$

140115.1.a) Bestäm en ekvation för tangentplanet till ellipsoiden med ekvation  $4x^2 + y^2 + 4z^2 = 16$  i punkten  $(1, 2, \sqrt{2})$ .

$$\text{Bilda } f(x, y, z) = 4x^2 + y^2 + 4z^2 - 16$$

Då är ekvationen uppfylld för nivåytan  $f(x, y, z) = 0$

Gradienten är normal till nivåytan i punkten  $\Rightarrow$  planets normal är

$$m = \nabla f(1, 2, \sqrt{2}) = (8x, 2y, 8z) \Big|_{(1, 2, \sqrt{2})} = (8, 4, 8\sqrt{2})$$



Med en punkt  $(p_1, p_2, p_3)$  och en normal  $(n_1, n_2, n_3)$  har vi planets ekvation

$$(n_1, n_2, n_3) \cdot (x - p_1, y - p_2, z - p_3) = 0$$

$\Rightarrow$  vi får  $8(x-1) + 4(y-2) + 8\sqrt{2}(z-\sqrt{2}) = 0 \quad \Leftrightarrow$

$$8x + 4y + 8\sqrt{2}z = 32 \quad \Leftrightarrow$$

$$2x + y + 2\sqrt{2}z = 8$$

120901.1.b) Bestäm en ekvation för tangentlinjen till kurvan

$$r(t) = 2\cos(t)\hat{i} + 2\sin(t)\hat{j} + t\hat{k}, \text{ i punkten } (2, 0, 0)$$

Linjens lutning är  $r'(t)$  med det  $t$  som ger oss punkten  $(2, 0, 0)$  på kurvan  $r(t)$ .

Vi ser att  $t=0$  ger  $r(0) = (2, 0, 0)$ .

$$r'(t) = -2\sin t \hat{i} + 2\cos t \hat{j} + \hat{k}$$

$$r'(0) = 2\hat{j} + \hat{k} = (0, 2, 1)$$

En linje beskrivs av en punkt och en riktning

$$L(t) = (2, 0, 0) + t(0, 2, 1) = (2, 2t, t)$$

13.0831.1.a) Beräkna riktningensderivatan av  $f(x, y, z) = x^2 + y^2 - 4z$  i punkten  $(2, -1, 1)$  i riktningen  $u = \hat{i} + \hat{j} - \hat{k}$

$$D_u f = \hat{u} \cdot \nabla f(2, -1, 1) = \frac{(1, 1, -1)}{\sqrt{3}} \cdot (2x, 2y, -4) \Big|_{(2, -1, 1)} = \frac{(1, 1, -1)}{\sqrt{3}} \cdot (4, -2, -4)$$

$$= \frac{4-2-4}{\sqrt{3}} = \frac{-2}{\sqrt{3}}$$