

Matematik Chalmers

Tentamen MVE255 (TMV191) Matematisk analys i flera variabler, 2016–04–05 f H

Telefon: Johannes Borgqvist 772 5325

Inga hjälpmedel. Kalkylator ej tillåten.

Uppgift 1, totalt 20 poäng, bedöms huvudsakligen på svaret.

Uppgift 2–6 är värda 6 poäng vardera, totalt 30. De bedöms även på hur väl formulerade lösningarna är. Skriv väl, motivera och förklara vad du gör; endast välformulerade lösningar ger full poäng! Renskriv lösningarna, lämna inte in kladdpapper.

Betygsgränser: 3: 20–29p, 4: 30–39p, 5: 40–.

Lösningar anslås på kursens hemsida efter tentamens slut. Resultat meddelas per epost. Granskning: torsdag 28 april, 11.30–12.30, hos Stig Larsson.

1. Varje deluppgift är värd 2 poäng, totalt 20.

1.1. Ge ett exempel som visar hur man använder MATLAB-funktionen `newton.m` från datorövningarna.

1.2. Beskriv vad följande Matlab-kommandon gör. Skissa figuren som skapas.

```
>> x=linspace(0,1); y=x;
>> [X,Y]=meshgrid(x,y);
>> Z=X.^2+Y.^2;
>> surf(X,Y,Z)
```

1.3. Vad blir A efter följande Matlab-kommandon med `jacobi.m` från datorövningarna?

```
>> x=[1;2]; A=jacobi(@(x)x(1)*x(2),x);
```

1.4. Fyll i värden i filen `BdryData.m`:

```
if tag==1 k=...; uA=...; g=...; end
if tag==2 k=...; uA=...; g=...; end
```


som anger randvillkoren $u(0) = 5$, $a(1)u'(1) + 7(u(1) - 3) = 5$.

1.5. PDE Toolbox har dessa beteckningar för randvärdesproblem av typen “Generic scalar problem”:

$$\begin{cases} -\nabla \cdot (c\nabla u) + au = f & \text{i } D, \\ n \cdot (c\nabla u) + qu = g & \text{på } S_2 \text{ (Neumann),} \\ hu = r & \text{på } S_1 \text{ (Dirichlet).} \end{cases}$$

Vad ska man fylla i för värden för ett värmeledningsproblem med inga värmekällor, värmeledningskoefficient = 5, temperaturen = 7 på en del av randen och resten av randen perfekt isolerad?

1.6. Visa att $\nabla \cdot (a\mathbf{F}) = \nabla a \cdot \mathbf{F} + a\nabla \cdot \mathbf{F}$.

1.7. Beräkna Taylors polynom av grad 2 till funktionen $f(x) = x_1x_2x_3$ kring punkten $a = (1, 1)$. 

1.8. Beräkna $\nabla \cdot \nabla u$ med funktionen $u(x, y) = e^x \cos(y)$.

1.9. Beräkna arbetet som utförs av kraften $\mathbf{F} = -y\mathbf{i} + x\mathbf{j} + z\mathbf{k}$ längs kurvan $C: \mathbf{r} = \cos t\mathbf{i} + \sin t\mathbf{j} + t\mathbf{k}$, $t \in [0, \pi/2]$.

1.10. Skriv ned en ekvation för tangentplanet till ytan $z = x^2 + y^2$ i punkten $(2, 1, 5)$.

Vänd!

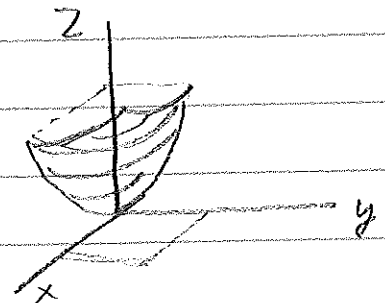
2. Beräkna massan av kroppen som begränsas av ytorna $y = x^2$, $z = 0$ och $y + z = 1$ och som har konstant densitet ρ .
3. (a) En öppen (dvs utan lock) rektangulär låda ska tillverkas av en rektangulär pappskiva med area A . Lådans dimensioner ska bestämmas så att volymen V blir maximal. Ställ upp Lagranges multiplikatormetod för detta problem. Du behöver bara skriva ned ekvationerna men inte lösa dem. (3p)
- (b) Beskriv hur man gör detta i Matlab med våra program `jacobi.m` och `newton.m`. (3 p)
4. Härled ytelementet för en graf $z = f(x, y)$.
5. Beräkna flödet av vektorfältet $\mathbf{F} = xy^2\mathbf{i} + yz^2\mathbf{j} + zx^2\mathbf{k}$ ut genom ytan av kroppen som begränsas av ytorna $x^2 + y^2 = 4$, $z = 0$ och $z = 3$.
6. Formulera Gauss divergenssats i rummet. /stig


MVE255 2016-04-05

1.1 Vi vill lösa systemet
$$\begin{cases} xy = 1 \\ x + y = 1 \end{cases}$$

$\Rightarrow x = \text{newton}(\alpha(x) [x(1) * x(2) - 1; x(1) + y(1) - 1], x = [0; 0], 1e-6)$

1.2 Vi plottar grafen $z = x^2 + y^2$ över kvadraten $0 \leq x \leq 1, 0 \leq y \leq 1$.



1.3 $A = [2; 1]$ 

1.4 if tag == 1; k = 1e8; mA = 5; g = 0;
if tag == 2; k = 7; mA = 3; g = 5;

1.5 $c = 5, a = 0, f = 0$
 $q = 0, g = 0$ på $S_2, h = 1, r = 7$ på S_1

1.6 $\nabla \cdot (aF) = \nabla \cdot (aF_1 i + aF_2 j + aF_3 k) =$
 $= \frac{\partial}{\partial x} (aF_1) + \frac{\partial}{\partial y} (aF_2) + \frac{\partial}{\partial z} (aF_3)$

$= \frac{\partial a}{\partial x} F_1 + a \frac{\partial F_1}{\partial x} + \frac{\partial a}{\partial y} F_2 + a \frac{\partial F_2}{\partial y} + \frac{\partial a}{\partial z} F_3 + a \frac{\partial F_3}{\partial z}$

$= \left(\frac{\partial a}{\partial x}, \frac{\partial a}{\partial y}, \frac{\partial a}{\partial z} \right) \cdot (F_1, F_2, F_3) + a \left(\frac{\partial F_1}{\partial x} + \frac{\partial F_2}{\partial y} + \frac{\partial F_3}{\partial z} \right)$

$= \nabla a \cdot F + a \nabla \cdot F$

$$1.7 \quad f(x) = x_1 x_2 x_3, \quad f(1,1,1) = 1$$

$$f'(x) = [x_2 x_3, x_1 x_3, x_1 x_2], \quad f'(1,1,1) = [1, 1, 1]$$

$$f''(x) = \begin{bmatrix} 0 & x_3 & x_2 \\ x_3 & 0 & x_1 \\ x_2 & x_1 & 0 \end{bmatrix}, \quad f''(1,1,1) = \begin{bmatrix} 0 & 1 & 1 \\ 1 & 0 & 1 \\ 1 & 1 & 0 \end{bmatrix}$$

$$P(x) = 1 + [1, 1, 1] \begin{bmatrix} x_1 - 1 \\ x_2 - 1 \\ x_3 - 1 \end{bmatrix} + \frac{1}{2} [x_1 - 1, x_2 - 1, x_3 - 1] \begin{bmatrix} 0 & 1 & 1 \\ 1 & 0 & 1 \\ 1 & 1 & 0 \end{bmatrix} \begin{bmatrix} x_1 - 1 \\ x_2 - 1 \\ x_3 - 1 \end{bmatrix}$$

$$1.8 \quad \nabla \cdot \nabla u = \nabla \cdot \left(\frac{\partial u}{\partial x} \mathbf{i} + \frac{\partial u}{\partial y} \mathbf{j} \right) = \frac{\partial^2 u}{\partial x^2} + \frac{\partial^2 u}{\partial y^2} =$$

$$= \frac{\partial}{\partial x} (e^x \cos y) + \frac{\partial}{\partial y} (-e^x \sin y) = e^x \cos y - e^x \cos y = 0$$

1.9

$$\int_C \mathbf{F} \cdot d\mathbf{r} = \int_0^{\pi/2} (-\sin t \mathbf{i} + \cos t \mathbf{j} + t \mathbf{k}) \cdot (-\sin t \mathbf{i} + \cos t \mathbf{j} + t \mathbf{k}) dt$$

$$= \int_0^{\pi/2} (\sin^2 t + \cos^2 t + t) dt = \int_0^{\pi/2} (1+t) dt = \frac{\pi}{2} + \frac{\pi^2}{8}$$

$$1.10 \quad z = f(x, y), \quad f(x, y) = x^2 + y^2, \quad f'_x(x, y) = 2x, \quad f'_y(x, y) = 2y$$



$$f(2, 1) = 5, \quad f'_x(2, 1) = 4, \quad f'_y(2, 1) = 2$$

$$z = 5 + [4, 1] \begin{bmatrix} x-2 \\ y-1 \end{bmatrix}$$

$$z = 5 + 4(x-2) + (y-1)$$

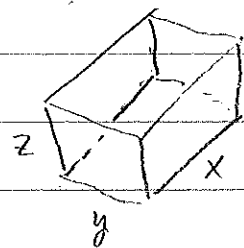
$$2. m = \iiint_K \rho \, dV = \rho \iiint_K dV = \rho \int_{-1}^1 \int_{x^2}^{1-y} \int_0^{1-y} dz \, dy \, dx = \dots =$$

$$= \rho \frac{8}{15}$$



$$3. V = xyz$$

$$A = xy + 2xz + 2yz = 10$$



Lös kritische punkt mit Lagrangefunktion:

$$L(x, y, z, \lambda) = xyz + \lambda(xy + 2xz + 2yz - 10)$$

Kritische punkte ges an
 $DL(x, y, z, \lambda) = 0$

$$\text{dws } \frac{\partial L}{\partial x} = yz + \lambda y + \lambda \cdot 2z = 0$$

$$\frac{\partial L}{\partial y} = xz + \lambda x + \lambda \cdot 2z = 0$$

$$\frac{\partial L}{\partial z} = xy + \lambda \cdot 2x + \lambda \cdot 2y = 0$$

$$\frac{\partial L}{\partial \lambda} = xy + 2xz + 2yz - 10 = 0$$

$$\begin{aligned}
3.b) \quad & f = @ (x) (x(1) * x(2) * x(3)); \\
& g = @ (x) (x(1) * x(2) + 2 * x(1) * x(3) + 2 * x(2) * x(3) - 10); \\
& L = @ (x) (f(x(1:3)) + x(4) * g(x(1:3))); \\
& DL = @ (x) jacobian(L, x)'; \\
& x0 = [1; 1; 1; 1]; \\
& x = newton (DL, x0, 1e-6);
\end{aligned}$$

4) Se buku "Contoh 4 sid 891,

$$5) \quad \nabla \cdot F = y^2 + z^2 + x^2$$

$$\iint_S F \cdot \hat{n} dS = \iiint_K \nabla \cdot F dV = \iiint_K (x^2 + y^2 + z^2) dV =$$

$$= \left\{ \begin{array}{l} \text{cylinder-} \\ \text{koordinat.} \end{array} \right\} = \int_0^{2\pi} \int_0^2 \int_0^3 (r^2 + z^2) r dz dr d\theta = 60\pi$$

6) Se buku,