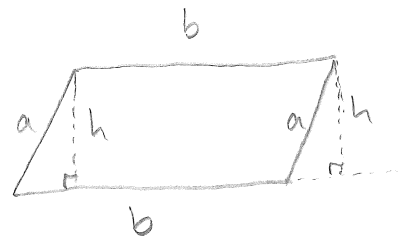


Mårten Wadenbäck

Fortsättning plan geometri

Förra föreläsningen såg vi att

arean av ett parallelogram

ges av $A=b \cdot h$. Detta använder vi för att visa följande.

Sats: Areal av en triangel med bas b och höjd h är $A = \frac{a \cdot b}{2}$.

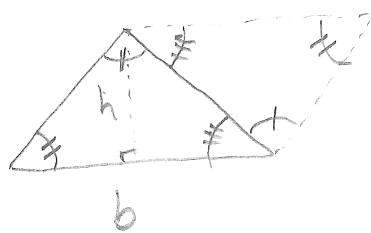
Bevis: Genom att dra de

streckade linjerna

i figuren och

identificera alternativvinklar

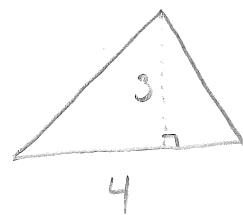
ser vi att vi har ett parallelogram vars

area $a \cdot b$ är dubbla arean av triangeln,alltså blir $A = \frac{ab}{2}$ för triangeln.

Exempel: Areal av triangeln i

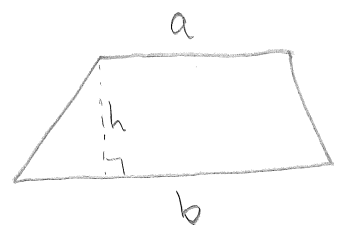
figuren blir

$$A = \frac{4 \cdot 3}{2} = 6.$$



En parallelltrapets är en fyhörning

i vilken två motstående sidor är parallella.



Sats: Arean av parallelltrapetsen i figuren är $A = \frac{a+b}{2} \cdot h$.

Bevis: Dela in parallelltrapetsen i två trianglar genom att dra en linje mellan två motstående hörn. Detta ger upphov till två trianglar med höjden h och baser a respektive b , och arean blir därmed

$$A = \frac{ah}{2} + \frac{bh}{2} = \frac{ah+bh}{2} = \frac{a+b}{2} \cdot h.$$

Exempel: Bestäm längden av den ena parallella sidan i en parallelltrapets med area $A=24$ om den andra parallella sidan har längden 6 och höjdens längd också är 6 .

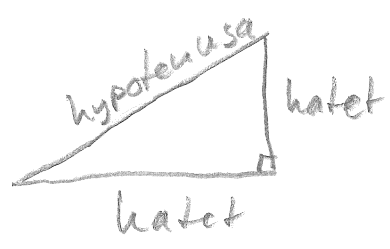
Vi låter $h=6$, $b=6$, och $A=24$. Insatt i areatformeln får vi

$$A = \frac{a+b}{2} \cdot h \Leftrightarrow 24 = \frac{a+6}{2} \cdot 6 \Leftrightarrow 24 = (a+6) \cdot 3 \Leftrightarrow$$

$$24 = 3a + 18 \Leftrightarrow 6 = 3a \Leftrightarrow a = 2.$$

Sista sidans längd är alltså $a=2$.

I en rätvinklig triangel kallas den räta vinkelns vinkelben för kateter och den sista (längsta) sidan kallas hypotenusan.

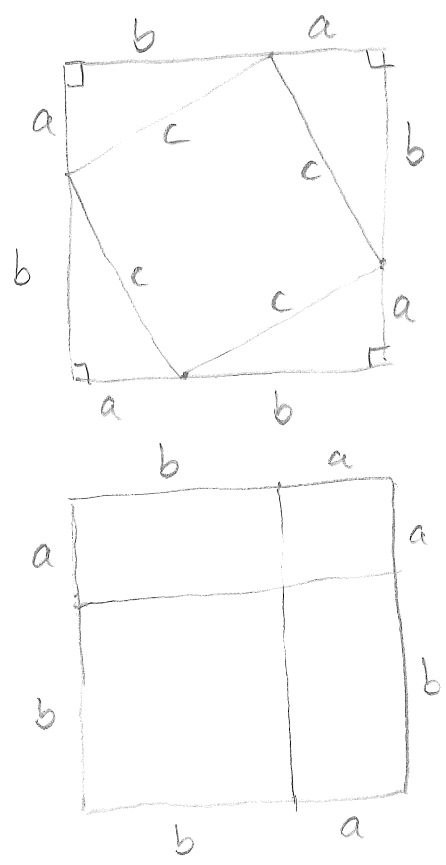


För rätvinkliga trianglar gäller

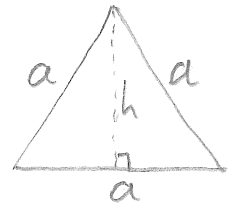
Sats (Pythagoras sats): Om a och b är kateter i en rätvinklig triangel med hypotenusan c så är

$$a^2 + b^2 = c^2$$

Bevis: Dela upp en kvadrat med sidan a+b på två olika sätt enligt figurerna till höger. Arean i den första ges av $A = 4 \cdot \frac{ab}{2} + c^2 = 2ab + c^2$, i den andra blir arean $A = ab + a^2 + b^2 + ab = a^2 + 2ab + b^2$. Eftersom areorna är lika är $a^2 + 2ab + b^2 = 2ab + c^2 \Leftrightarrow a^2 + b^2 = c^2$.



Exempel: Bestäm höjden i en
liksidig triangel med sidan a .



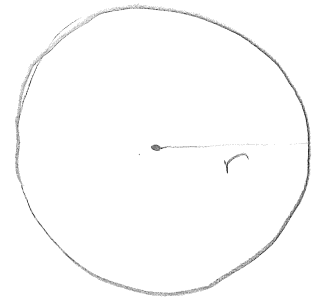
Vi delar triangeln längs höjden,
vilket ger två rätvinkliga trianglar med bas $\frac{a}{2}$
och den sökta höjden h . Enligt Pythagoras

sats måste $(\frac{a}{2})^2 + h^2 = a^2 \Leftrightarrow \frac{a^2}{4} + h^2 = a^2 \Leftrightarrow h^2 = \frac{3a^2}{4}$.

Eftersom $h \geq 0$ blir $h = \sqrt{\frac{3a^2}{4}} = \frac{a\sqrt{3}}{2}$.

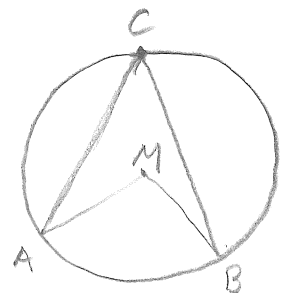
Definition: En cirkel består av alla punkter som
ligger på ett givet avstånd r (radie) från
en fix medelpunkt (medelpunkten).

En sträcka mellan två
punkter på cirkeln kallas
för en kor, och en kor



som går genom medelpunkten kallas diameter.

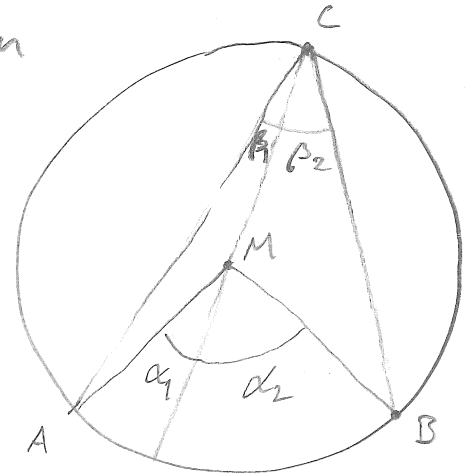
För en båg mellan två punkter, A och B ,
på cirkeln kallas vinkeln AMB medelpunkts-
vinkeln till bågen. Om C är en punkt
på cirkeln som inte ligger på bågen



kallas vinkeln ACB randvinkel till bågen.

Sats (Randvinkelnsatsen): För en cirkelbåge gäller att dess medelpunktsvinkel är dubbelt så stor som varje randvinkel till bågen.

Bevis: Låt α vara medelpunktsvinkeln och låt β vara randvinkeln, och drag diametern genom randvinkelns spets.



Diametern delar då vinklarna i två delar, $\alpha = \alpha_1 + \alpha_2$ och $\beta = \beta_1 + \beta_2$.

Vi tittar nu närmare på den vänstra triangeln AMC. Denna är likbent (två sidor är lika med raden) och det följer att vinkeln vid A är β_1 , och därför är vinkeln vid M $180^\circ - 2\beta_1$. Eftersom α_1 är en sidovinkel till denna så måste $\alpha_1 + (180^\circ - 2\beta_1) = 180^\circ \Leftrightarrow$

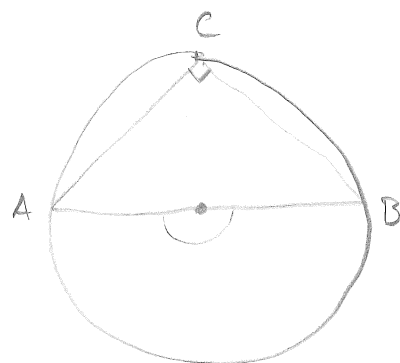
$$\alpha_1 - 2\beta_1 = 0 \Leftrightarrow \alpha_1 = 2\beta_1.$$

Samma resonemang för den högra triangeln ger $\alpha_2 = 2\beta_2$.

$$\text{Detta leder till } \alpha = \alpha_1 + \alpha_2 = 2\beta_1 + 2\beta_2 = 2(\beta_1 + \beta_2) = 2\beta,$$

så vi har visat att $\alpha = 2\beta$.

Följdsats: Om A och B är skärningspunkter på cirkeln och en diameter, så är randvinkeln till bågen mellan A och B alltid 90° .



För alla cirklar gäller att förhållandet mellan dess omkrets och dess diameter är samma!

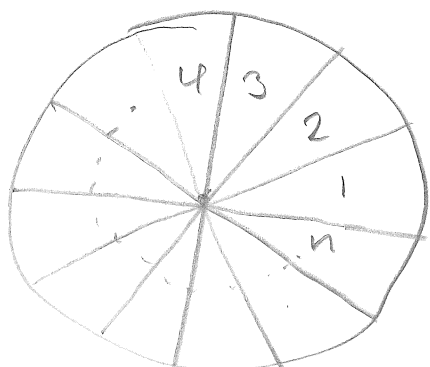
Denna konstanten kallas π , och definieras

$$\pi = \frac{\text{Omkrets}}{\text{diameter}} \quad (\approx 3.1415\dots)$$

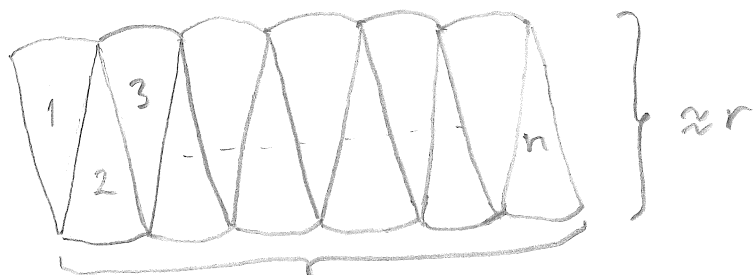
Omkretsen till en cirkel med radie r blir $2\pi r$, eftersom diametern är $2r$.

Arean för en cirkelshiva med radie r blir $A = r^2\pi$.

Detta kan vi inte bevisa ännu, men figuren nedan kan ge en uppfattning om varför det är rimligt:



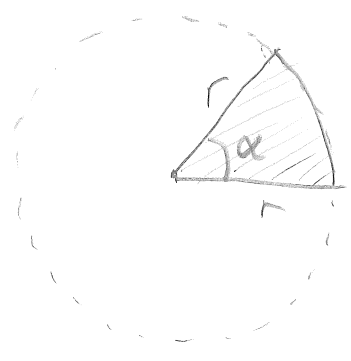
radie r



$\approx \pi r$ (halva omkretsen)

nästan parallelogram...

En cirkelsektor är en fjärtbit-
 liknande del av en cirkel,
 där två av dess sidor är radier
 och den tredje är en cirkelbåge.



Medelpunktsvinkeln avgör hur stor del av hela cirkeln
 som cirkelsektorn utgör, och dess area blir

$$A = \frac{\alpha}{360} \cdot r^2 \pi.$$

Dess omkrets blir $\frac{\alpha}{360} \cdot 2\pi r + 2r.$