

Absoluttbelopp

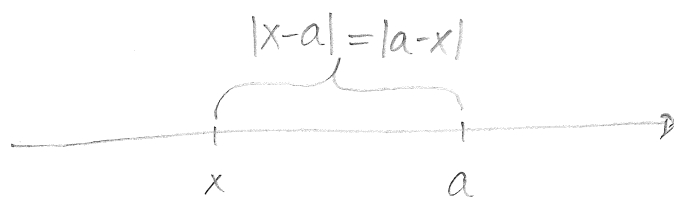
Absoluttbeloppet av x betecknas $|x|$ och definieras enligt

$$|x| = \begin{cases} x & \text{om } x \geq 0 \\ -x & \text{om } x < 0. \end{cases}$$

Anmärkning: Observera att det alltid gäller att $|x| \geq 0$, och även att $|x| = 0 \Leftrightarrow x = 0$.

Geometriskt kan $|x|$ tolkas som avståndet från x till noll.

På samma sätt betyder $|x-a|$ avståndet från x till a :



Absoluttbelopp kan användas för att beskriva intervall som är symmetriska kring en viss punkt.

Exempel: Olikheten $|x-3| < 2$ blir enligt definitionen av absoluttbelopp två olikheter:

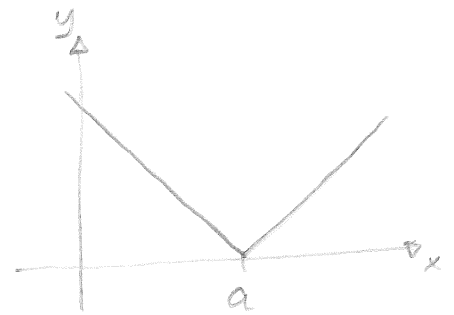
$$|x-3| < 2 \Leftrightarrow \begin{cases} x-3 < 2 & \text{om } x-3 \geq 0 \\ -(x-3) < 2 & \text{om } x-3 < 0 \end{cases} \Leftrightarrow$$

$$\begin{cases} x < 5 & \text{om } x \geq 3 \\ x-3 > -2 & \text{om } x < 3 \end{cases} \Leftrightarrow \begin{cases} x < 5 & \text{om } x \geq 3 \\ x > -1 & \text{om } x < 3 \end{cases} \Leftrightarrow -1 < x < 5.$$

Alltså är $|x-3| < 2 \Leftrightarrow x \in (-1, 5)$.

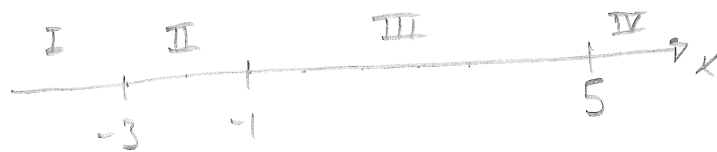
I absolutbeloppet $|x-a|$ kallas a för brytpunkt, på grund av att grafen ser ut som i figuren:

Eftersom $|x|=|x-0|$ har $|x|$ sin brytpunkt i nollan.



Exempel: Lös ekvationen $|x+1| + |x-5| + |x+3| = 10$

Vi börjar med att hitta alla vänsterledets brytpunkter, som är $x=-1$, $x=5$, och $x=-3$. Vänsterledet förenklas till olika uttryck beroende på vilket av de fyra intervallen vi befinner oss i:



I) Om $x < -3$ blir ekvationen

$$-1-x+5-x-3-x=10 \Leftrightarrow 1-3x=10 \Leftrightarrow -3x=9 \Leftrightarrow x=-3,$$

men detta är en falsk lösning eftersom inte $-3 < -3$.

II) Om $-3 \leq x < -1$ blir ekvationen

$$-1-x+5-x+x+3=10 \Leftrightarrow 7-x=10 \Leftrightarrow x=3.$$

Detta är en giltig lösning, då $-3 \leq 3 < -1$.

III) Om $-1 \leq x < 5$ får vi

$$x+1+5-x+x+3=10 \Leftrightarrow x+9=10 \Leftrightarrow x=1.$$

Detta är en giltig lösning eftersom $-1 \leq 1 < 5$.

IV) Om $5 \leq x$ får vi

$$x+1+x-5+x+3=10 \Leftrightarrow 3x-1=10 \Leftrightarrow 3x=11 \Leftrightarrow x=\frac{11}{3}.$$

Detta är en falsk lösning eftersom inte $5 \leq \frac{11}{3}$.

Sammantaget finns alltså de två lösningarna $x=1$ och $x=3$.

För absolutbeloppet gäller följande räkneregler:

$$(i) \quad |x| = |-x|$$

$$(ii) \quad |xy| = |x| \cdot |y|$$

$$(iii) \quad \left| \frac{x}{y} \right| = \frac{|x|}{|y|}$$

Regel (i) kommer sig av definitionen av absolutbeloppet.

Regel (ii) får vi genom att tänka igenom de fyra varianterna med tecken för x och y (eller metoden i booken).

Regel (iii) följer av regel (ii), enligt $|x| = \left| \frac{x}{y} \cdot y \right| = \left| \frac{x}{y} \right| \cdot |y| \Leftrightarrow \left| \frac{x}{y} \right| = \frac{|x|}{|y|}$.

Exempel: Förenkla $\frac{|a^4 - ab^3|}{|a^2 - b^2|}$ om $a < 0 < b$.

Vi faktorrerar, och får

$$\begin{aligned} \frac{|a^4 - ab^3|}{|a^2 - b^2|} &= \frac{|a(a^3 - b^3)|}{|(a-b)(a+b)|} = \frac{|a(a-b)(a^2 + ab + b^2)|}{|a-b| \cdot |a+b|} = \\ &= \frac{|a| \cdot |a-b| \cdot |a^2 + ab + b^2|}{|a-b| \cdot |a+b|} = \frac{a \cdot (a^2 + ab + b^2)}{|a+b|}, \end{aligned}$$

eftersom $|a| = -a$ och $a^2 + ab + b^2 \geq 0$.

(Trotsamt om det blev så mycket enklare.)

ett vanligt fel är att tro att $\sqrt{a^2} = a$, men det gäller bara så länge $a \geq 0$. Enligt definitionen av kvadratroten är ju $\sqrt{a^2}$ det tal $x \geq 0$ som uppfyller $x^2 = a^2$, och om $a < 0$ så är $\sqrt{a^2} = -a$. Kombinerar vi fallen $a \geq 0$ och $a < 0$ i en formel får vi $\sqrt{a^2} = |a|$.

Exempel: Förenkla $\frac{\sqrt{a^3b - ba^2}}{\sqrt{a^4b^2c^2}}$ om $b > 0$.

Vi får

$$\frac{\sqrt{a^3b - ba^2}}{\sqrt{a^4b^2c^2}} = \frac{\sqrt{a^2b(a-1)}}{\sqrt{a^4b^2c^2}} = \frac{\sqrt{a^2}\sqrt{b}\sqrt{a-1}}{a^2\sqrt{b^2}\sqrt{c^2}} =$$

$$\frac{|a|\sqrt{b}\sqrt{a-1}}{a^2b \cdot |c|} = \frac{a\sqrt{b}\sqrt{a-1}}{a^2b|c|} = \frac{\sqrt{a-1}}{a\sqrt{b}|c|}$$

eftersom $\sqrt{a-1}$ gör att $a \geq 1$ så att $|a| = a$.

För absolutbelopp har vi följande sats, som är användbar ibland för att göra uppskattningar:

Sats (Triangelolikheten): Om $x, y \in \mathbb{R}$ så gäller

$$|x+y| \leq |x| + |y|.$$

Bevis: $(|x|+|y|)^2 = |x|^2 + 2|x|\cdot|y| + |y|^2 = x^2 + 2|xy| + y^2 \geq x^2 + 2xy + y^2 =$
 $= (x+y)^2 = |x+y|^2$, dvs $(|x|+|y|)^2 \geq |x+y|^2 \Rightarrow |x|+|y| \geq |x+y|$.

(5)

Exempel: Lös olikheten $|x^2 - 2x| + x - 2 < 0$.

Först undersöker vi när $x^2 - 2x \geq 0$ respektive $x^2 - 2x < 0$, eftersom vänsterledet blir olika uttryck i dessa fall.

Eftersom $x^2 - 2x = x(x - 2)$ har teckentabellen



ser vi att $x^2 - 2x \geq 0$ då $x \leq 0$ eller $x \geq 2$,

och att $x^2 - 2x < 0$ då $0 < x < 2$.

Om $x^2 - 2x \geq 0$ blir olikheten

$$x^2 - 2x + x - 2 < 0 \Leftrightarrow x^2 - x - 2 < 0.$$

Vi hittar nollställena till $x^2 - x - 2$:

$$x = \frac{1}{2} \pm \sqrt{\left(\frac{1}{2}\right)^2 + 2} = \frac{1}{2} \pm \sqrt{\frac{1}{4} + \frac{8}{4}} = \frac{1}{2} \pm \frac{3}{2}.$$

Alltså är $x^2 - x - 2 = (x - 2)(x + 1)$. Teckentabellen blir



vilket ger $-1 < x < 2$. Men samtidigt skall $x^2 - 2x \geq 0$, som enligt ovan sker då $x \leq 0$ eller $x \geq 2$.

Kvar blir alltså bara $-1 < x \leq 0$.

Om $x^2 - 2x < 0$ blir olikheten istället

$$-x^2 + 2x + x - 2 < 0 \Leftrightarrow x^2 - 3x + 2 > 0.$$

Vi hittar nollställena till $x^2 - 3x + 2$:

$$x = \frac{3}{2} \pm \sqrt{\left(\frac{3}{2}\right)^2 - 2} = \frac{3}{2} \pm \sqrt{\frac{9}{4} - \frac{8}{4}} = \frac{3}{2} \pm \frac{1}{2}.$$

Detta ger $x^2 - 3x + 2 = (x-1)(x-2)$, som har teckentabellen



Olikheten $x^2 - 3x + 2 > 0$ gäller alltså då $x < 1$ eller $x > 2$.

Samtidigt skall $x^2 - 2x < 0$ gälla, vilket sker då $0 < x < 2$,

så kvar blir bara $0 < x < 1$.

Sammantaget gäller $|x^2 - 2x| + x - 2 < 0$ då $-1 < x \leq 0$ eller

då $0 < x < 1$. Detta kan förhållas till $-1 < x < 1$, eller till

intervallet $(-1, 1)$. (Eller till $|x| < 1$.)