

LÖSNINGAR TILL TENTAMEN FÖR MVE425C

Lördagen den 21 mars, 8³⁰ – 12³⁰

1. Beräkna derivatan av följande funktioner:

(a) $e^{2x} \tan(x)$

$$\begin{aligned} D(e^{2x} \tan(x)) &= D(e^{2x}) \tan(x) + e^{2x} D(\tan(x)) = 2e^{2x} \tan(x) + e^{2x}(1 + \tan^2(x)) \\ &= e^{2x}(1 + 2 \tan(x) + \tan^2(x)) \end{aligned}$$

(b) $\ln\left(\frac{1}{1+x^2}\right)$

$$D\left(\ln\left(\frac{1}{1+x^2}\right)\right) = D(-\ln(1+x^2)) = -\frac{2x}{1+x^2}$$

(c) $\sin^3(4x+2)$

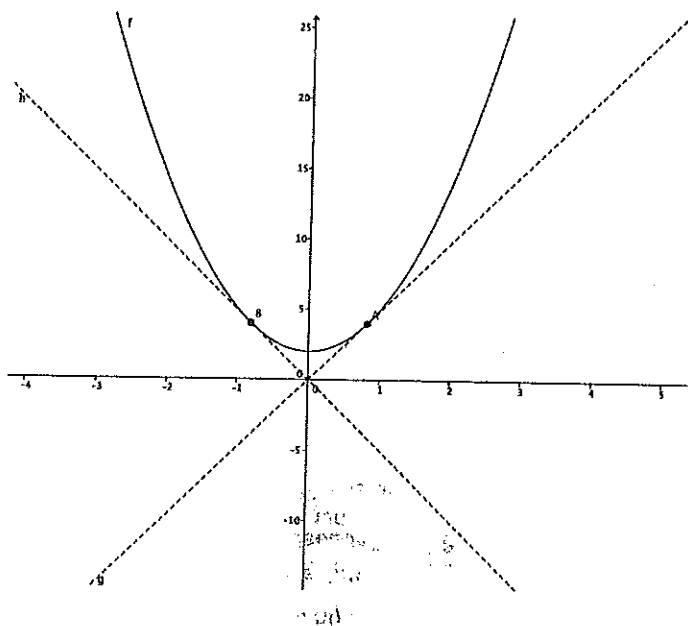
$$\begin{aligned} D(\sin^3(4x+2)) &= 3 \sin^2(4x+2) D(\sin(4x+2)) = 3 \sin^2(4x+2) \cos(4x+2) D(4x+2) = \\ &= 12 \sin^2(4x+2) \cos(4x+2) \end{aligned}$$

2. Betrakta funktionskurvan av $f(x) = 3x^2 + 2$. Hitta de punkter på kurvan vars tangenter passerar genom origo.

Vi börjar med att ta fram ekvationen för tangenten i en godtycklig punkt $(a; f(a))$. Derivatan ges av $f'(x) = 6x$ och med hjälp av enpunktsformeln kan vi skriva ekvationen för tangenten:

$$y - f(a) = f'(a)(x - a) \iff y - (3a^2 + 2) = 6a(x - a)$$

vilket efter förenkling ger $y(x) = 6ax - 3a^2 + 2$. En sådan tangent passerar genom origo om och endast om $y(0) = 0$. Detta ger ekvationen $y(0) = -3a^2 + 2 = 0$ som har lösningarna $a = \pm\sqrt{2/3}$. Funktionsvärdet i dessa punkter är $f(\pm\sqrt{2/3}) = 4$ och de två punkterna är $(\sqrt{2/3}, 4)$ och $(-\sqrt{2/3}, 4)$. Bilden nedan visar lösningen grafiskt.



3. Låt $f(x) = \frac{2x^2 + 1}{x^2 - 3}$. Bestäm funktionens definitionsmängd, lokala extrempunkter, asymptoter, samt skissa funktionens graf.

Vi följer arbetsgången för kurvkonstruktion:

- Bestäm definitionsmängd. Vi ser att nämnaren i funktionen ges av $N(x) = x^2 - 3$, och har därmed att $N(x) = 0 \iff x = \pm\sqrt{3}$. Vi har att täljaren $T(\pm\sqrt{3}) \neq 0$, vilket innebär att $D_f = \{x; x \neq \pm\sqrt{3}\}$. Randpunkter för D_f är $-\infty, -\sqrt{3}, \sqrt{3}, \infty$
- Bestäm eventuella asymptoter. Vi har lodräta asymptoter i $x = -\sqrt{3}$ och $\sqrt{3}$. Nära dessa beter sig funktionen enligt:

$$\lim_{x \rightarrow -\sqrt{3}^+} \frac{2x^2 + 1}{x^2 - 3} = -\infty$$

$$\lim_{x \rightarrow -\sqrt{3}^-} \frac{2x^2 + 1}{x^2 - 3} = \infty$$

$$\lim_{x \rightarrow \sqrt{3}^+} \frac{2x^2 + 1}{x^2 - 3} = \infty$$

$$\lim_{x \rightarrow \sqrt{3}^-} \frac{2x^2 + 1}{x^2 - 3} = -\infty$$

Vi undersöker nu sneda asymptoter:

$$\begin{aligned} k &= \lim_{x \rightarrow \pm\infty} \frac{f(x)}{x} = \lim_{x \rightarrow \pm\infty} \frac{2x^2 + 1}{x(x^2 - 3)} = \lim_{x \rightarrow \pm\infty} \frac{2x^2 + 1}{x^3 - 3x} = \lim_{x \rightarrow \pm\infty} \frac{x^3(2/x + 1/x^3)}{x^3(1 - 3/x^2)} = \\ &= \lim_{x \rightarrow \pm\infty} \frac{2/x + 1/x^3}{1 - 3/x^2} = 0. \end{aligned}$$

$$\begin{aligned} m &= \lim_{x \rightarrow \pm\infty} (f(x) - kx) = \lim_{x \rightarrow \pm\infty} f(x) = \lim_{x \rightarrow \pm\infty} \frac{2x^2 + 1}{x^2 - 3} = \lim_{x \rightarrow \pm\infty} \frac{x^2(2 + 1/x^2)}{x^2(1 - 3/x^2)} = \\ &= \lim_{x \rightarrow \pm\infty} \frac{2 + 1/x^2}{1 - 3/x^2} = 2 \end{aligned}$$

Alltså $y = kx + m = 0x + 2 = 2$ är en sned asymptot då $x \rightarrow \pm\infty$.

3. Lokala extrempunkter.

$$f'(x) = \frac{4x(x^2 - 3) - (2x^2 + 1)2x}{(x^2 - 3)^2} = -\frac{14x}{(x^2 - 3)^2}$$

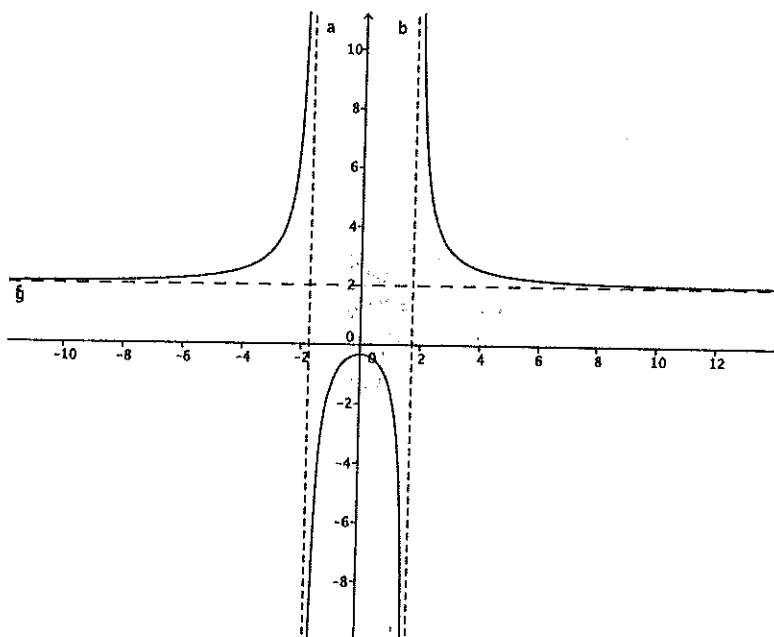
Extrempunkter ges av lösningar till $f'(x) = 0$ och eftersom nämnaren är nollskild i D_f så har vi att $f'(x) = 0 \iff -14x = 0 \iff x = 0$.

Vi undersöker tecknet av $f'(x)$ runt denna punkt och finner att $f'(-1) = 7/2$ och $f'(1) = -7/2$. Alltså tecken växling $+, 0, -$ och ett lokalt maximum.

4. Teckentabell för $f'(x)$ och $f(x)$. Intressanta punkter är: $-\infty, -\sqrt{3}, 0, \sqrt{3}, \infty$.
 Vi använder informationen ovan och komplementerar med att $f'(-2) > 0$,
 $f'(2) < 0$ och att $f(0) = -1/3$.

x	∞		$-\sqrt{3}$		0		$\sqrt{3}$		∞		
$f'(x)$	0	$+$		$+$	0	$-$		$-$	0		
$f(x)$	2	\nearrow	∞	$-\infty$	\nearrow	$-1/3$	\searrow	∞	$-\infty$	\searrow	2

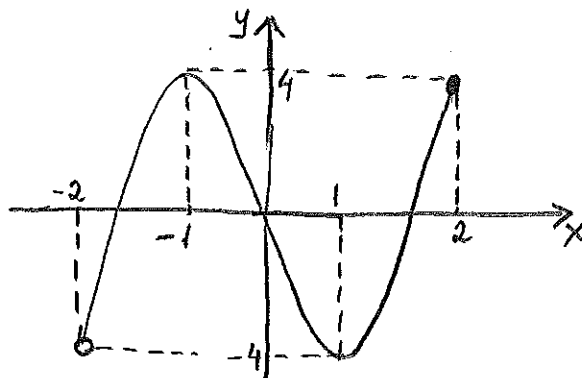
Med informationen i tabellen kan vi nu skissa grafen som ser ut som nedan.



4. Bestäm största och minsta värde för funktionen $f(x) = 2x^3 - 6x$ definierad på $D_f = (-2, 2]$.

$$f'(x) = 6x^2 - 6 = 0 \Leftrightarrow x^2 = 1 \Leftrightarrow x = \pm 1$$

x	-2		-1		1		2
$f'(x)$		+	0	-	0	+	
$f(x)$	-4	↗	4	↘	-4	↗	4



Det framgår att $f(x)$ antar både ett största och minsta värde på intervallet $[-2, 2]$. Största värdet är 4, som antas för $x = -1$ och $x = 2$. Minsta värdet är -4 , som antas för $x = 1$.

5. Låt $f(x) = e^{-x}(x^2 + 2x + 2)$. Bestäm funktionens definitionsmängd, lokala extrempunkter och asymptoter. Bestäm även inflexionspunkter, på vilka intervall funktionen är konkav respektive konvex, samt skissa funktionens graf.

Vi följer arbetsgången för kurvkonstruktion:

1. Bestäm definitionsmängd. Funktionen f kan också skrivas $f(x) = \frac{x^2+2x+2}{e^x}$ med nämnare $N(x) = e^x$, men $e^x \neq 0$ för alla x vilket innebär att f är definierad för alla x och $D_f = \mathbb{R}$.
2. Bestäm eventuella asymptoter. Eftersom $D_f = \mathbb{R}$ finns inga lodräta asymptoter.

Vi undersöker nu sneda asymptoter och börjar med $x \rightarrow \infty$:

$$\begin{aligned} k &= \lim_{x \rightarrow \infty} \frac{f(x)}{x} = \lim_{x \rightarrow \infty} \frac{x^2 + 2x + 2}{xe^x} = \lim_{x \rightarrow \infty} \frac{x^2(1 + 2/x + 2/x^2)}{xe^x} = \\ &= \lim_{x \rightarrow \infty} \frac{x(1 + 2/x + 2/x^2)}{e^x} = 0. \end{aligned}$$

$$m = \lim_{x \rightarrow \infty} (f(x) - kx) = \lim_{x \rightarrow \infty} \frac{x^2 + 2x + 2}{e^x} - 0x = \lim_{x \rightarrow \infty} \frac{x^2(1 + 2/x + 2/x^2)}{e^x} = 0.$$

Alltså $y = kx + m = 0$ är en asymptot då $x \rightarrow \infty$.

Vi undersöker nu $x \rightarrow -\infty$:

$$\begin{aligned} k &= \lim_{x \rightarrow -\infty} \frac{f(x)}{x} = \lim_{x \rightarrow -\infty} \frac{x^2 + 2x + 2}{xe^x} = \lim_{x \rightarrow -\infty} \frac{x^2(1 + 2/x + 2/x^2)}{xe^x} = \\ &= \lim_{x \rightarrow -\infty} \frac{x(1 + 2/x + 2/x^2)}{e^x} = [t = -x] = \lim_{t \rightarrow \infty} \frac{-t(1 - 2/t + 2/t^2)}{e^{-t}} = \\ &= \lim_{t \rightarrow \infty} -t(1 - 2/t + 2/t^2)e^t = -\infty \end{aligned}$$

Alltså existerar ingen asymptot då $x \rightarrow -\infty$.

3. Lokala extrempunkter. ($f'(x) = 0$)

$$f'(x) = -e^{-x}(x^2 + 2x + 2) + e^{-x}(2x + 2) = -x^2e^{-x} = 0 \iff x = 0.$$

Vi undersöker tecknet av $f'(x)$ runt denna punkt och finner att $f'(-1) = -1/e$ och $f'(1) = -1/e$. Alltså tecken växling $-, 0, -$ och vi har en terrasspunkt.

4. Inflexionspunkter.

Inflexionspunkter är lösningar till ekvationen $f''(x) = 0$, men vi måste också försäkra oss om att f'' växlar tecken i dessa punkter.

$$f''(x) = -e^{-x}(-x^2) + e^{-x}(-2x) = e^{-x}(x^2 - 2x).$$

$$f''(x) = 0 \iff x(x - 2) = 0 \iff x = 0 \text{ eller } 2$$

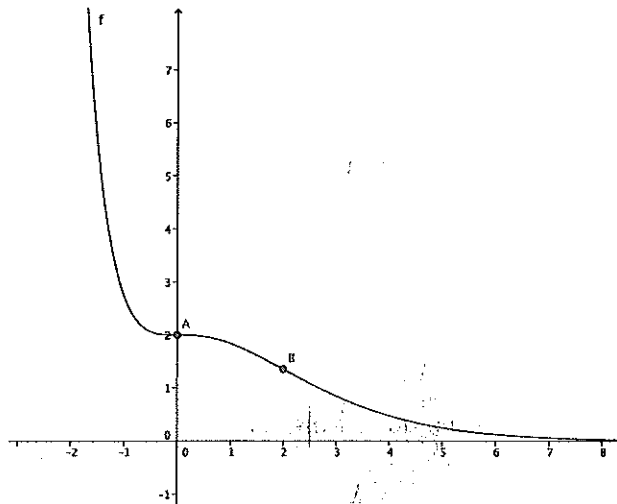
Vi undersöker tecknet kring dessa punkter och ser att $f''(-1) = 3e > 0$, $f''(1) = -e < 0$ och $f''(3) = 3/e > 0$. Vi har alltså teckenväxling kring $x = 0$ och 2 .

Funktionsvärdet i dessa punkter är $f(0) = 2$ och $f(2) = 10/e^2$ och vi kan därför sluta oss till att $(0; 2)$ och $(2; 10/e^2)$ är inflexionspunkter. Vi kan också sluta oss till att f är konvex på $(-\infty, 0) \cup (2, \infty)$ och konkav på $(0, 2)$.

5. Teckentabell för $f''(x)$, $f'(x)$ och $f(x)$. Intressanta punkter är: $-\infty, 0, 2, \infty$.

x	$-\infty$		0		2		∞
$f''(x)$	+	+	0	-	0	+	+
$f'(x)$	-	-	0	-	-	-	-
$f(x)$	∞	\searrow	2	\searrow	$10/e^2$	\searrow	0

Med informationen i tabellen kan vi nu skissa grafen som ser ut som nedan.



6. Bestäm konstanten k sådan att funktionen $f(x) = ke^{-x} + \ln x$ har ett lokalt extremvärde i punkten $(1; f(1))$. Bestäm även typen av extremvärdet.

Ett extremvärde karakteriseras av $f'(x) = 0$. Vi måste alltså bestämma konstanten k så att $f'(1) = 0$.

$$f'(x) = -ke^{-x} + \frac{1}{x}$$

$$f'(1) = -k/e + 1 = 0 \iff k = e.$$

För att undersöka karaktären på extremvärdet beräknar vi f'' . Insättning av $k = e$ ger $f(x) = e^{1-x} + \ln x$ och

$$f'(x) = -e^{1-x} + \frac{1}{x}$$

samt

$$f''(x) = e^{1-x} - \frac{1}{x^2}.$$

Alltså har vi $f''(1) = 0$ och andraderivatan hjälper oss därför inte, utan vi behöver göra en teckenstudie av f' runt den kritiska punkten. Vi ser då att $f'(1/2) = -\sqrt{e} + 2 > 0$ och $f'(2) = -1/e + 1/2 > 0$, alltså teckenväxlingen $+, 0, +$ vilket svarar mot en terrasspunkt.

7. Formulera Lagranges medelvärdessats.

Antag att funktionen f är kontinuerlig i det slutna intervallet $[a, b]$ och deriverbar i det öppna intervallet (a, b) , då finns minst en punkt $\xi \in (a, b)$ sådan att

$$f(b) - f(a) = f'(\xi)(b - a).$$