

FIGUR 1. Problem 1. Ursprunglig triangulering.

**Problem 1.**

(a) Med triangelnumrering enligt Figur 1 fås med Pythagoras' sats och enkel trigonometri:

	Storlek (d.v.s. längsta sidan)	Minsta vinkel
$T_1$	$\sqrt{2}$	$\pi/4$
$T_2$	2	$\pi/12$
$T_3$	2	$\pi/6$

(b) Med nod- och triangelnumrering enligt Figur 1 fås

$$p = \begin{bmatrix} 0 & 1 & \sqrt{3} & \sqrt{3} & 0 \\ 0 & 0 & 0 & 1 & 1 \end{bmatrix}, \quad t = \begin{bmatrix} 1 & 2 & 3 \\ 2 & 3 & 4 \\ 5 & 5 & 5 \\ * & * & * \end{bmatrix}.$$

*Kommentar:* Rad nummer 4 i matrisen  $t$  innehåller numren på de delområden respektive triangel tillhör. Dessa betecknas ovan med "\*".

(c) Först förfinas  $T_1$  genom att en ny kant insättes från mittpunkten på den längsta sidan till motstående hörn. Eftersom detta introducerar en s.k. "hängande nod" i punkten  $(0.5, 0.5)$  måste därefter även  $T_2$  förfinas. Den resulterande trianguleringen blir därmed som i Figur 2.

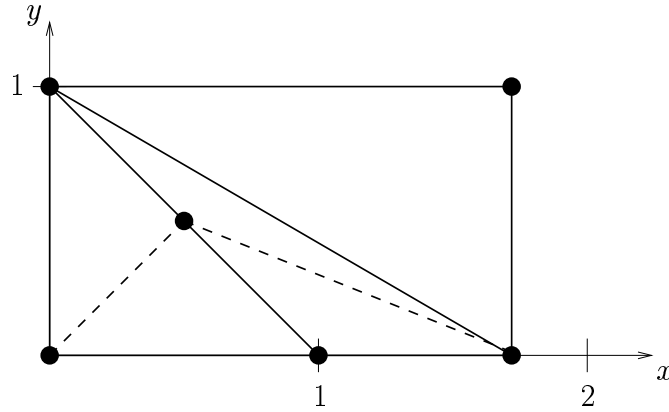
(d) Eftersom det finns en basfunktion associerad med varje nod blir dimensionen av  $V_h$  på den ursprungliga trianguleringen lika med 5 och på den förfinade trianguleringen lika med 6.

$$(e) \varphi_1(x, y) = \begin{cases} 1 - (x + y), & (x, y) \in T_1, \\ 0, & \text{annars.} \end{cases}$$

**Problem 2.**

(a) Vi har följande (inre) noder:  $N_1$  i punkten  $x = 1/3$  och  $N_2$  i punkten  $x = 2/3$ . En bas för  $V_h^0$  utgörs av de associerade hattfunktionerna  $\{\varphi_1, \varphi_2\} \subset V_h^0$ , där

$$\varphi_1(x) = \begin{cases} 3x, & 0 \leq x \leq 1/3, \\ 2 - 3x, & 1/3 \leq x \leq 2/3, \\ 0, & 2/3 \leq x \leq 1, \end{cases} \quad \varphi_2(x) = \begin{cases} 0, & 0 \leq x \leq 1/3, \\ 3x - 1, & 1/3 \leq x \leq 2/3, \\ 3 - 3x, & 2/3 \leq x \leq 1. \end{cases}$$



FIGUR 2. Problem 1(c). Förfinaad triangulering.

Därmed fås interpolanten  $\pi_h f \in V_h^0$  som

$$\pi_h f(x) = f\left(\frac{1}{3}\right) \varphi_1(x) + f\left(\frac{2}{3}\right) \varphi_2(x) = -\frac{2}{9} \varphi_1(x) - \frac{2}{9} \varphi_2(x) = \begin{cases} -2x/3, & 0 \leq x \leq 1/3, \\ -2/9, & 1/3 \leq x \leq 2/3, \\ 2x/3 - 2/3, & 2/3 \leq x \leq 1. \end{cases}$$

Enligt definition av  $L_2$ -projektion är  $P_h f \in V_h^0$  den (entydigt bestämda) funktion som uppfyller

$$(1) \quad \int_0^1 P_h f v \, dx = \int_0^1 f v \, dx, \quad \forall v \in V_h^0.$$

Eftersom  $\{\varphi_1, \varphi_2\} \subset V_h^0$  är en bas för  $V_h^0$  är (1) ekvivalent med

$$(2) \quad \int_0^1 P_h f \varphi_i \, dx = \int_0^1 f \varphi_i \, dx, \quad i = 1, 2.$$

Ansätt

$$(3) \quad P_h f(x) = c_1 \varphi_1(x) + c_2 \varphi_2(x), \quad c_1, c_2 \in \mathbb{R}.$$

Insättning av (3) i (2) ger

$$(4) \quad \sum_{j=1}^2 c_j \underbrace{\int_0^1 \varphi_j \varphi_i \, dx}_{m_{ij}} = \underbrace{\int_0^1 f \varphi_i \, dx}_{b_i}, \quad i = 1, 2.$$

På matrisform skrivs (4)

$$(5) \quad Mc = b.$$

Vi beräknar

$$b = \begin{bmatrix} b_1 \\ b_2 \end{bmatrix} = \begin{bmatrix} \int_0^1 f \varphi_1 \, dx \\ \int_0^1 f \varphi_2 \, dx \end{bmatrix} = \begin{bmatrix} \int_0^{1/3} x(x-1)3x \, dx + \int_{1/3}^{2/3} x(x-1)(2-3x) \, dx \\ \int_{1/3}^{2/3} x(x-1)(3x-1) \, dx + \int_{2/3}^1 x(x-1)(3-3x) \, dx \end{bmatrix} =$$

$$\begin{bmatrix} -11/162 \\ -11/162 \end{bmatrix},$$

där  $b_1 = b_2$  av symmetriskäl. Vidare beräknas

$$M = \begin{bmatrix} m_{11} & m_{12} \\ m_{21} & m_{22} \end{bmatrix} = \begin{bmatrix} \int_0^1 \varphi_1 \varphi_1 dx & \int_0^1 \varphi_2 \varphi_1 dx \\ \int_0^1 \varphi_1 \varphi_2 dx & \int_0^1 \varphi_2 \varphi_2 dx \end{bmatrix} =$$

$$\begin{bmatrix} \int_0^{1/3} (3x)^2 dx + \int_{1/3}^{2/3} (2-3x)^2 dx & \int_{1/3}^{2/3} (3x-1)(2-3x) dx \\ \int_{1/3}^{2/3} (2-3x)(3x-1) dx & \int_{1/3}^{2/3} (3x-1)^2 dx + \int_{2/3}^1 (3-3x)^2 dx \end{bmatrix} =$$

$$\begin{bmatrix} 2/9 & 1/18 \\ 1/18 & 2/9 \end{bmatrix},$$

där  $m_{11} = m_{22}$  av symmetriskäl (och självfallet så är  $m_{12} = m_{21}$ ). Slutligen löser vi (5):

$$c = \begin{bmatrix} c_1 \\ c_2 \end{bmatrix} = M^{-1}b = \frac{1}{\det M} \begin{bmatrix} m_{22} & -m_{12} \\ -m_{21} & m_{11} \end{bmatrix} \begin{bmatrix} b_1 \\ b_2 \end{bmatrix} =$$

$$\frac{1}{(2/9)^2 - (1/18)^2} \begin{bmatrix} 2/9 & -1/18 \\ -1/18 & 2/9 \end{bmatrix} \begin{bmatrix} -11/162 \\ -11/162 \end{bmatrix} = \begin{bmatrix} -11/45 \\ -11/45 \end{bmatrix},$$

d.v.s.

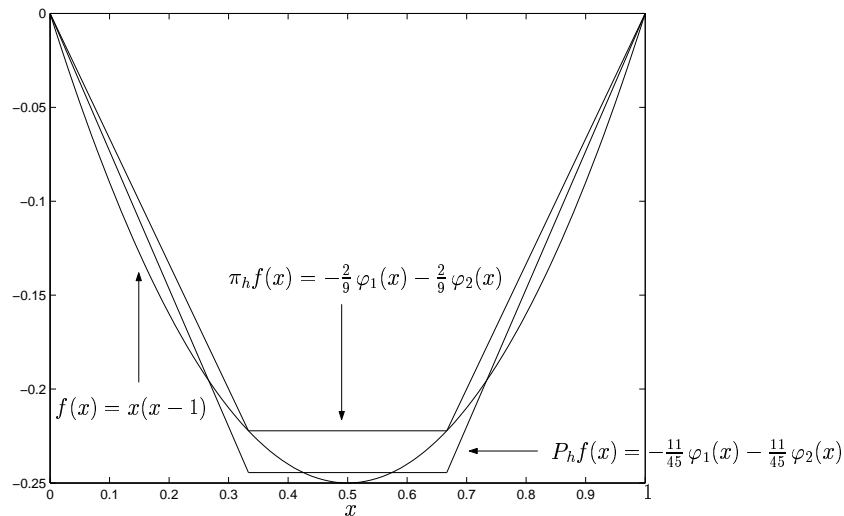
$$P_h f(x) = -\frac{11}{45} \varphi_1(x) - \frac{11}{45} \varphi_2(x) = \begin{cases} -11x/15, & 0 \leq x \leq 1/3, \\ -11/45, & 1/3 \leq x \leq 2/3, \\ 11x/15 - 11/15, & 2/3 \leq x \leq 1. \end{cases}$$

Se Figur 3.

(b)  $\|f\|_{L_\infty(I)} = \max_{x \in I} |f(x)| = 1/4$ ,  $\|f\|_{L_2(I)} = (\int_I f(x)^2 dx)^{1/2} = (\int_0^1 x^2(x-1)^2 dx)^{1/2} = 1/\sqrt{30}$ .

(c) -

(d) -



FIGUR 3. Problem 2(a).

**Problem 3.**

(a) –

(b) –

(c)  $\nabla f = \left(\frac{\partial f}{\partial x}, \frac{\partial f}{\partial y}\right) = (y \cos(xy), x \cos(xy))$ ;  $\Delta f = \nabla \cdot (\nabla f) = \frac{\partial^2 f}{\partial x^2} + \frac{\partial^2 f}{\partial y^2} = -y^2 \sin(xy) - x^2 \sin(xy) = -(x^2 + y^2) \sin(xy)$ ;  $\nabla \cdot (x \nabla f) = \nabla \cdot (xy \cos(xy), x^2 \cos(xy)) = \frac{\partial}{\partial x}(xy \cos(xy)) + \frac{\partial}{\partial y}(x^2 \cos(xy)) = y \cos(xy) - xy^2 \sin(xy) - x^3 \sin(xy) = y \cos(xy) - x(x^2 + y^2) \sin(xy)$ ;  $b \cdot \nabla f = (1, 1) \cdot \left(\frac{\partial f}{\partial x}, \frac{\partial f}{\partial y}\right) = \frac{\partial f}{\partial x} + \frac{\partial f}{\partial y} = y \cos(xy) + x \cos(xy) = (x + y) \cos(xy)$ .

(d) Eftersom  $\partial\Omega = \{(x, y) \in \mathbb{R}^2 : x^2 + y^2 = 1\}$  medför randvillkoret  $u = 0$  på  $\partial\Omega$  att  $(\alpha - 1)/4 = 0$ , d.v.s.  $\alpha = 1$ . Alltså är  $u = (1 - x^2 - y^2)/4$  vilket, eftersom  $a = c = 1$ , ger  $f = -\Delta u + u = -\frac{\partial^2 u}{\partial x^2} - \frac{\partial^2 u}{\partial y^2} + u = 1/2 + 1/2 + (1 - x^2 - y^2)/4 = 1 + (1 - x^2 - y^2)/4$ .

(e) –

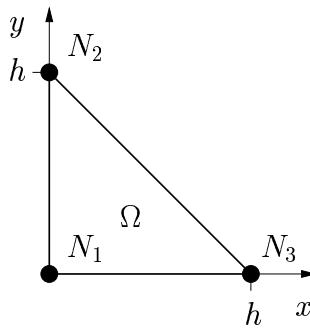
**Problem 4.**

(a) –

(b) –

(c) –

(d) –



FIGUR 4. Problem 5.

**Problem 5.** Låt  $\mu(\Omega) = h^2/2$  beteckna arean av  $\Omega$ . Se Figur 4.

(a) Med kvadratur baserad på integrandens värden i triangelsidornas mittpunkter, vilken är exakt för andragradspolynom, fås<sup>1</sup>

$$m_{11} = \iint_{\Omega} \varphi_1 \varphi_1 \, dx \, dy = \frac{\frac{1}{2} \times \frac{1}{2} + \frac{1}{2} \times \frac{1}{2} + 0 \times 0}{3} \mu(\Omega) = h^2/12.$$

Av symmetriskäl blir också de övriga elementen i massmatrisens huvuddiagonal

$$m_{22} = m_{33} = h^2/12.$$

Vidare fås

$$m_{12} = \iint_{\Omega} \varphi_2 \varphi_1 \, dx \, dy = \frac{\frac{1}{2} \times \frac{1}{2} + 0 \times \frac{1}{2} + \frac{1}{2} \times 0}{3} \mu(\Omega) = h^2/24,$$

och av symmetriskäl

<sup>1</sup>Observera att eftersom tälfunktionerna är *linjära* funktioner på  $\Omega$  är deras värden i triangelsidornas mittpunkter antingen 1/2 eller 0.

$$m_{21} = m_{13} = m_{31} = m_{23} = m_{32} = h^2/24.$$

(b) Notera först att explicita uttryck för tältfunktionerna på  $\Omega$  ges av

$$\varphi_1(x, y) = 1 - \frac{x+y}{h}, \quad \varphi_2(x, y) = \frac{y}{h}, \quad \varphi_3(x, y) = \frac{x}{h},$$

vilket ger

$$\nabla\varphi_1 = \left(-\frac{1}{h}, -\frac{1}{h}\right), \quad \nabla\varphi_2 = \left(0, \frac{1}{h}\right), \quad \nabla\varphi_3 = \left(\frac{1}{h}, 0\right).$$

Därmed fås

$$a_{11} = \iint_{\Omega} \nabla\varphi_1 \cdot \nabla\varphi_1 \, dx \, dy = \iint_{\Omega} \left(-\frac{1}{h}, -\frac{1}{h}\right) \cdot \left(-\frac{1}{h}, -\frac{1}{h}\right) \, dx \, dy = \frac{2}{h^2} \mu(\Omega) = 1,$$

$$a_{22} = \iint_{\Omega} \nabla\varphi_2 \cdot \nabla\varphi_2 \, dx \, dy = \iint_{\Omega} \left(0, \frac{1}{h}\right) \cdot \left(0, \frac{1}{h}\right) \, dx \, dy = \frac{1}{h^2} \mu(\Omega) = 1/2,$$

och av symmetriskäl

$$a_{33} = 1/2.$$

Vidare fås

$$a_{12} = \iint_{\Omega} \nabla\varphi_2 \cdot \nabla\varphi_1 \, dx \, dy = \iint_{\Omega} \left(0, \frac{1}{h}\right) \cdot \left(-\frac{1}{h}, -\frac{1}{h}\right) \, dx \, dy = -\frac{1}{h^2} \mu(\Omega) = -1/2,$$

$$a_{23} = \iint_{\Omega} \nabla\varphi_3 \cdot \nabla\varphi_2 \, dx \, dy = \iint_{\Omega} \left(\frac{1}{h}, 0\right) \cdot \left(0, \frac{1}{h}\right) \, dx \, dy = 0,$$

och av symmetriskäl

$$a_{21} = a_{13} = a_{31} = -1/2, \quad a_{32} = 0.$$

(c) Notera att

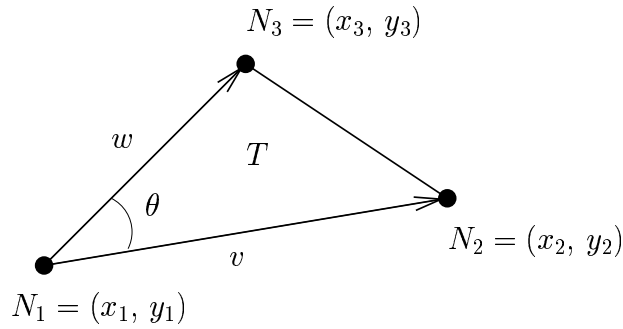
$$b_i = \iint_{\Omega} \varphi_i \, dx \, dy, \quad i = 1, 2, 3,$$

geometriskt är *volymen* under "täkt"  $\varphi_i$ . Alltså blir

$$(6) \quad b_1 = b_2 = b_3 = \frac{\overbrace{\mu(\Omega)}^{\text{"basyta"}} \times \overbrace{1}^{\text{"höjd"}}}{3} = h^2/6,$$

från formeln för volymen av en pyramid<sup>2</sup>.

<sup>2</sup>*Kommentar:* Ekvation (6) är förstas precis det uttryck som du erhåller ifall du t.ex. använder kvadratur baserad på integrandens värden i triangelns hörn, vilken är exakt för förstegradspolynom.



FIGUR 5. Problem 6.

**Problem 6.** Låt  $\mu(T)$  beteckna arean av triangeln. Låt vidare  $v$  beteckna vektorn från  $N_1$  till  $N_2$ , och  $w$  vektorn från  $N_1$  till  $N_3$ . Kalla slutligen vinkeln mellan  $v$  och  $w$  för  $\theta$ . Se Figur 5.

$$(a) \mu(T) = \frac{|v||w|\sin(\theta)}{2} = \frac{v \times w}{2} = \frac{(x_2 - x_1, y_2 - y_1) \times (x_3 - x_1, y_3 - y_1)}{2} = \frac{(x_2 - x_1)(y_3 - y_1) - (x_3 - x_1)(y_2 - y_1)}{2}.$$

(b) Eftersom  $\varphi_1$  är linjär på  $T$  gör vi ansatsen  $\varphi_1(x, y) = Ax + By + C$ . Därmed blir  $\nabla\varphi_1 = (\frac{\partial\varphi_1}{\partial x}, \frac{\partial\varphi_1}{\partial y}) = (A, B)$  och vi har löst problemet ifall vi kan bestämma  $A$  och  $B$ . Om vi nu utnyttjar att  $\varphi_1(N_1) = 1$  och  $\varphi_1(N_2) = \varphi_1(N_3) = 0$ , erhålls det linjära ekvationssystemet

$$(7) \quad Ax_1 + By_1 + C = 1,$$

$$(8) \quad Ax_2 + By_2 + C = 0,$$

$$(9) \quad Ax_3 + By_3 + C = 0.$$

Eftersom vi i första hand är intresserade av att bestämma  $A$  och  $B$  eliminerar vi  $C$  genom att multiplicera ekvation (7) med  $-1$  och addera till ekvationerna (8) och (9), vilka därmed övergår i

$$(10) \quad A(x_2 - x_1) + B(y_2 - y_1) = -1,$$

$$(11) \quad A(x_3 - x_1) + B(y_3 - y_1) = -1.$$

Ekvationerna (10) och (11) kan skrivas på matrisform

$$\overbrace{\begin{bmatrix} x_2 - x_1 & y_2 - y_1 \\ x_3 - x_1 & y_3 - y_1 \end{bmatrix}}^M \begin{bmatrix} A \\ B \end{bmatrix} = \begin{bmatrix} -1 \\ -1 \end{bmatrix},$$

med lösning

$$\begin{bmatrix} A \\ B \end{bmatrix} = M^{-1} \begin{bmatrix} -1 \\ -1 \end{bmatrix} = \frac{1}{\underbrace{(x_2 - x_1)(y_3 - y_1) - (x_3 - x_1)(y_2 - y_1)}_{\det M}} \begin{bmatrix} y_3 - y_1 & y_1 - y_2 \\ x_1 - x_3 & x_2 - x_1 \end{bmatrix} \begin{bmatrix} -1 \\ -1 \end{bmatrix} = \frac{1}{2\mu(T)} \begin{bmatrix} y_2 - y_3 \\ x_3 - x_2 \end{bmatrix}.$$

**Problem 7.**

(a) Bakåt Euler: givet  $\xi^0$ , lös

$$M \frac{\xi^n - \xi^{n-1}}{\Delta t} + A \xi^n = b, \quad n = 1, 2,$$

d.v.s.

$$\overbrace{(M + \Delta t A)^C} \xi^n = M\xi^{n-1} + \Delta t b, \quad n = 1, 2,$$

där  $\Delta t = 1/2$  och  $C = M + \Delta t A = \begin{bmatrix} 3 & 7 \\ 2 & 5 \end{bmatrix}$ . Bestäm först  $\xi^1$ :

$$C\xi^1 = M\xi^0 + \Delta t b = \begin{bmatrix} 1 & 0 \\ 0 & 1 \end{bmatrix} \begin{bmatrix} 1 \\ 1 \end{bmatrix} + (1/2) \begin{bmatrix} 0 \\ 0 \end{bmatrix} = \begin{bmatrix} 1 \\ 1 \end{bmatrix};$$

$$\xi^1 = C^{-1} \begin{bmatrix} 1 \\ 1 \end{bmatrix} = \frac{1}{\underbrace{3 \times 5 - 2 \times 7}_{\det C}} \begin{bmatrix} 5 & -7 \\ -2 & 3 \end{bmatrix} \begin{bmatrix} 1 \\ 1 \end{bmatrix} = \begin{bmatrix} -2 \\ 1 \end{bmatrix}.$$

Bestäm nu  $\xi^2$ :

$$C\xi^2 = M\xi^1 + \Delta t b = \begin{bmatrix} 1 & 0 \\ 0 & 1 \end{bmatrix} \begin{bmatrix} -2 \\ 1 \end{bmatrix} + (1/2) \begin{bmatrix} 0 \\ 0 \end{bmatrix} = \begin{bmatrix} -2 \\ 1 \end{bmatrix};$$

$$\xi^2 = C^{-1} \begin{bmatrix} -2 \\ 1 \end{bmatrix} = \frac{1}{\underbrace{3 \times 5 - 2 \times 7}_{\det C}} \begin{bmatrix} 5 & -7 \\ -2 & 3 \end{bmatrix} \begin{bmatrix} -2 \\ 1 \end{bmatrix} = \begin{bmatrix} -17 \\ 7 \end{bmatrix},$$

vilket är en approximation till  $\xi(1)$ .

(b) –